



長方形と正方形 5

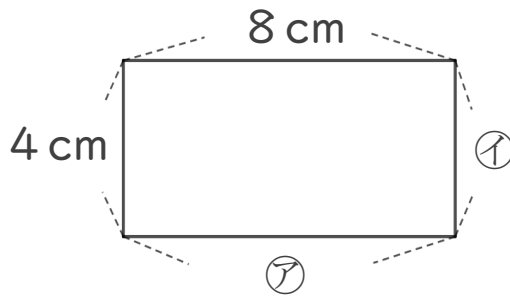
◎ 長方形のまわりの長さ

10

日にち： 月 日

名まえ _____

1 つぎの形は長方形です。次の問題に答えましょう。



① ア、イのへんの長さは、それぞれ何cmですか。

答え： ア・・・

イ・・・

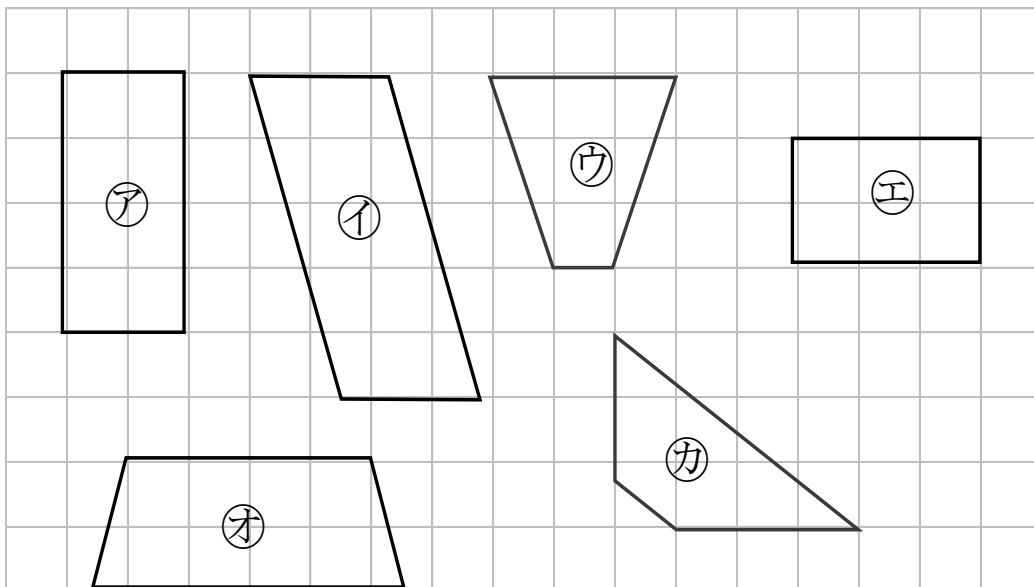
② この長方形のまわりの長さは何cmですか。

式：

答え： _____

2 長方形はどれですか。

三角じょうぎをつかって、ぜんぶ見つけましょう。



答え： _____



長方形と正方形 5

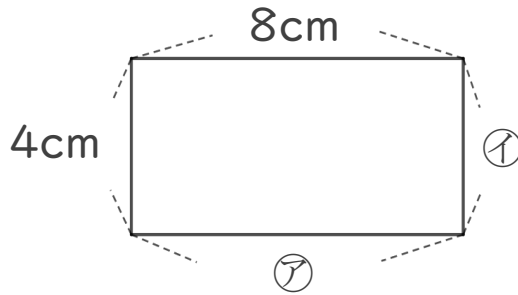
10

◎ 長方形のまわりの長さ

日にち： 月 日

名まえ _____

1 下の形は長方形です。つぎのもんだいに答えましょう。



① ②、①のへんの長さは、それぞれ何cmですか。

答え： ②... 8 cm ①... 4 cm

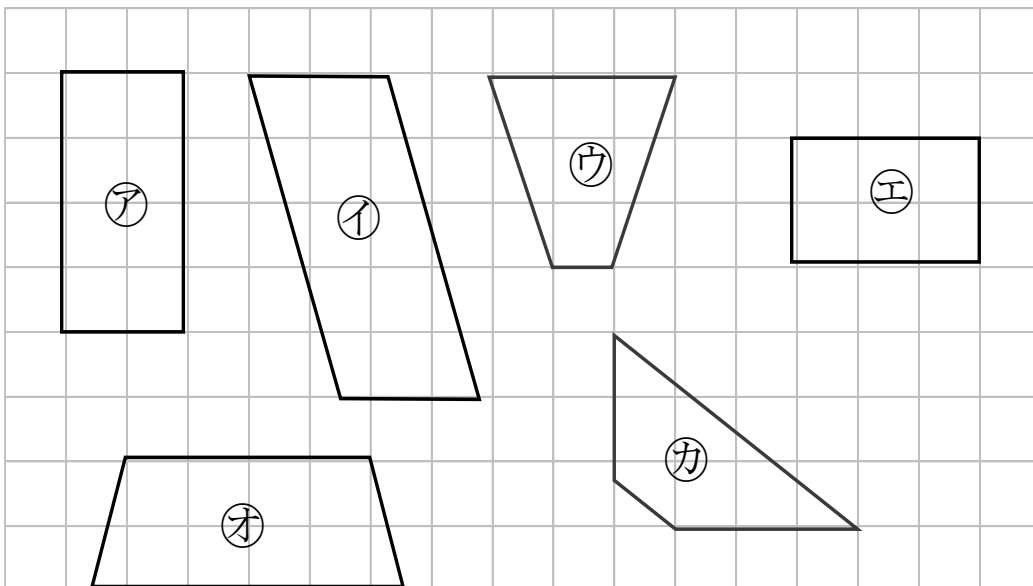
② この長方形のまわりの長さは何cmですか。

式: $4 + 4 + 8 + 8 = 24$

答え： 24cm

2 長方形はどれですか。

三角じょうぎをつかって、ぜんぶ見つけましょう。



答え： ア, エ