



長方形と正方形 8

● 長方形や直角三角形をかいてみよう

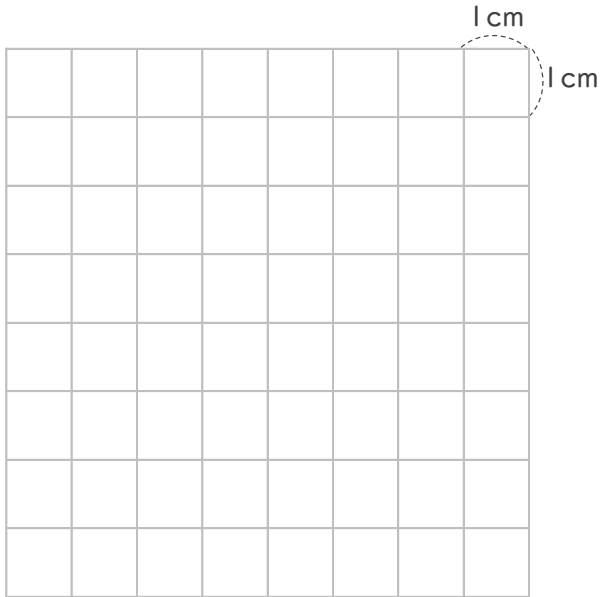


日にち： 月 日

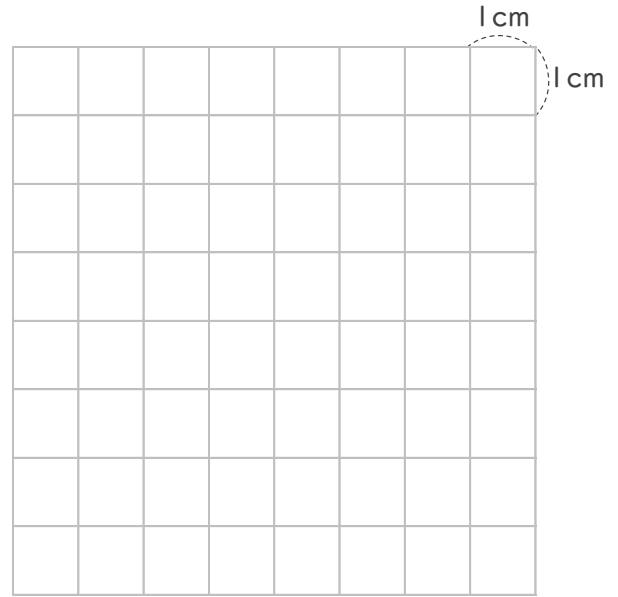
名まえ _____

1 つぎの形をかきましょう。

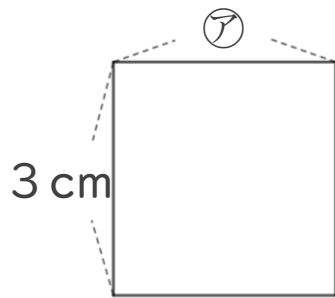
① たて5 cm よこ6 cmの長方形。



② 4 cmのへんと5 cmのへんの間に直角のかどがある直角三角形。



2 つぎの形は正方形です。つぎのもんだいに答えましょう。



① アのへんの長さは、何cmですか。

答え： _____

② この正方形のまわりの長さは何cmですか。

しき：

答え： _____



長方形と正方形 8

● 長方形や直角三角形をかいてみよう

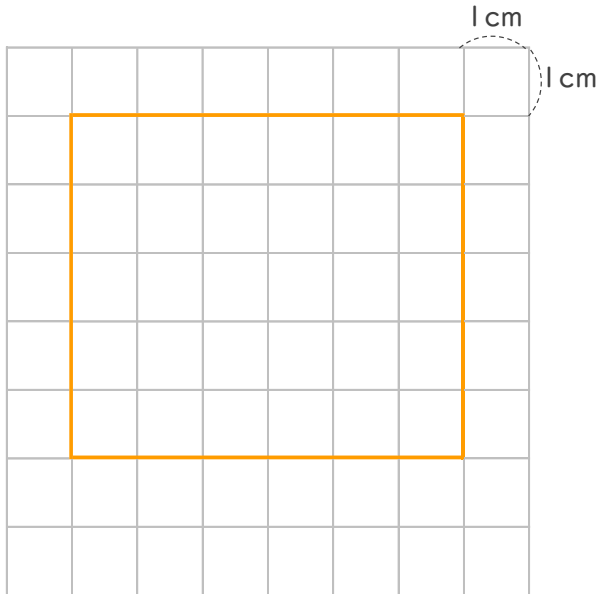


日にち： 月 日

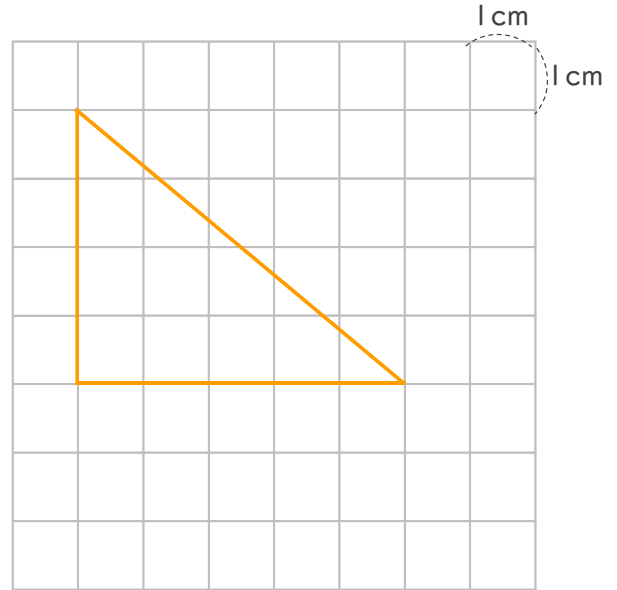
名まえ _____

1 つぎの形をかきましょう。

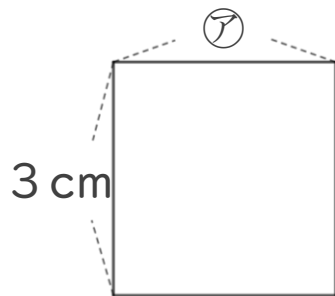
① たて5cm よこ6cmの長方形。



② 4cmのへんと5cmのへんの間に直角のかどがある直角三角形。



2 つぎの形は正方形です。つぎのもんだいに答えましょう。



① アのへんの長さは、何cmですか。

答え： **3 cm**

② この正方形のまわりの長さは何cmですか。

$$\text{しき: } 3 + 3 + 3 + 3 = 12$$

答え： **12cm**

