



# 4けたの数 13

◎ いくつずつふえているかな



日にち：            月            日

名まえ \_\_\_\_\_

1 □ にあう数を書きましょう。

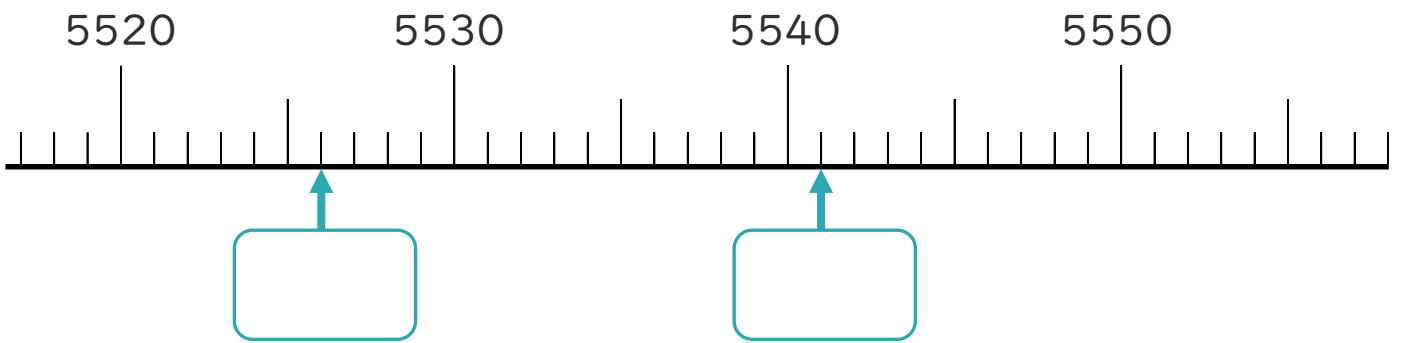
①



②

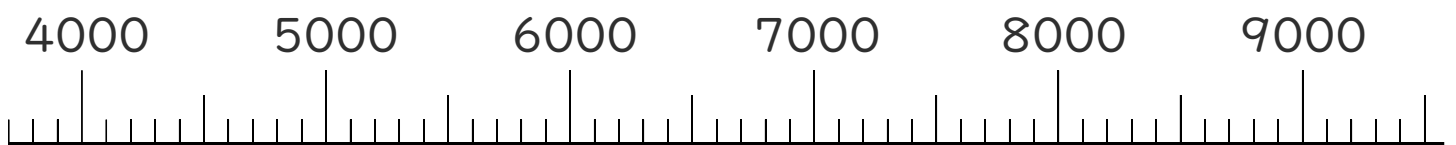



③



2 次の数を表すめもりに、↑ を書きましょう。

① 4400    ② 8600





# 4けたの数 13

◎ いくつずつふえているかな



日にち：            月            日

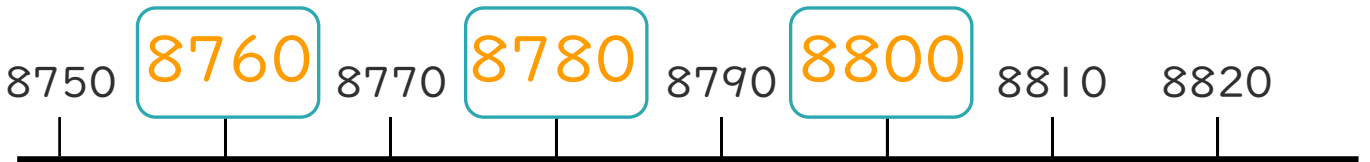
名まえ \_\_\_\_\_

1 □ にあう数を書きましょう。

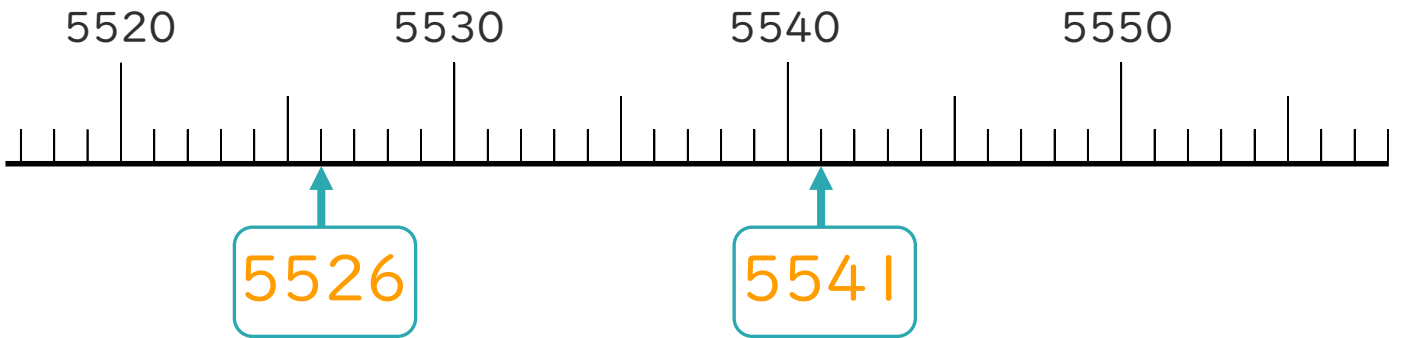
①



②



③



2 次の数を表すめもりに、↑ を書きましょう。

① 4400    ② 8600

