



分数3


● もとの大きさの○分の一をさがす



日にち： 月 日


名まえ

1 もとの大きさの $\frac{1}{2}$ はどれですか。

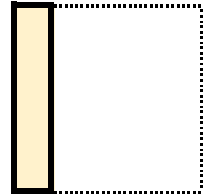


もとの大きさ

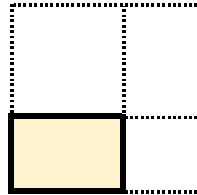
ア



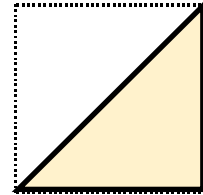
イ



ウ



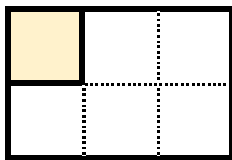
エ



答え：

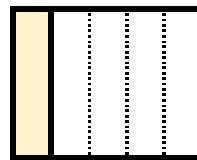
2 色をぬったぶぶんはもとの大きさの何分の一ですか。

①



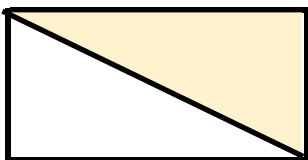
答え：

③



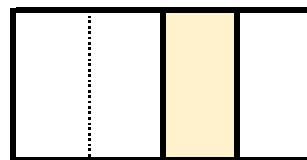
答え：

②



答え：

④



答え：





分数3


● もとの大きさの○分の一をさがす



日にち： 月 日


名まえ

1 もとの大きさの $\frac{1}{2}$ はどれですか。

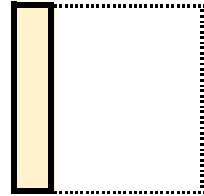


もとの大きさ

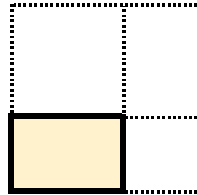
ア



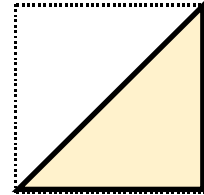
イ



ウ



エ

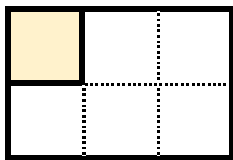


答え：

エ

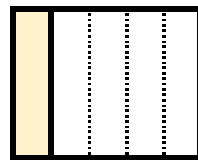
2 色をぬったぶぶんはもとの大きさの何分の一ですか。

①



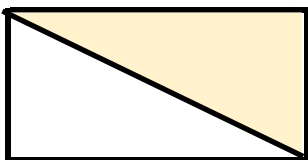
答え： $\frac{1}{6}$

③



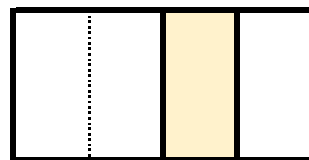
答え： $\frac{1}{5}$

②



答え： $\frac{1}{2}$

④



答え： $\frac{1}{4}$

