



## 分数6

● もとの大きさはいくつ分？




日にち：          月          日


名まえ \_\_\_\_\_

1 もとの長さの  $\frac{1}{6}$  をいくつあつめると、もとの長さになりますか。

もとの長さの  $\frac{1}{6}$



もとの長さ



答え： \_\_\_\_\_

2 もとの長さの  $\frac{1}{3}$  をいくつあつめると、もとの長さになりますか。

もとの長さの  $\frac{1}{3}$



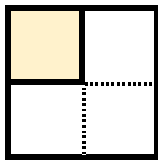
もとの長さ



答え： \_\_\_\_\_

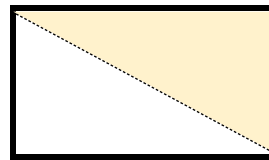
3 色をぬったぶぶんはもとの大きさの何分の一ですか。

①



答え： \_\_\_\_\_

②



答え： \_\_\_\_\_



## 分数6

● もとの大きさはいくつ分？




日にち：          月          日


名まえ \_\_\_\_\_

1 もとの長さの  $\frac{1}{6}$  をいくつあつめると、もとの長さになりますか。

もとの長さの  $\frac{1}{6}$



もとの長さ



答え： 6つ

2 もとの長さの  $\frac{1}{3}$  をいくつあつめると、もとの長さになりますか。

もとの長さの  $\frac{1}{3}$



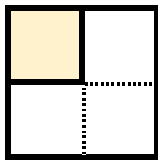
もとの長さ



答え： 3つ

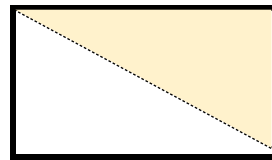
3 色をぬったぶぶんはもとの大きさの何分の一ですか。

①



答え：  $\frac{1}{4}$

②



答え：  $\frac{1}{2}$

