





# 長さのたんい 7

● ものさしではかる (mm)

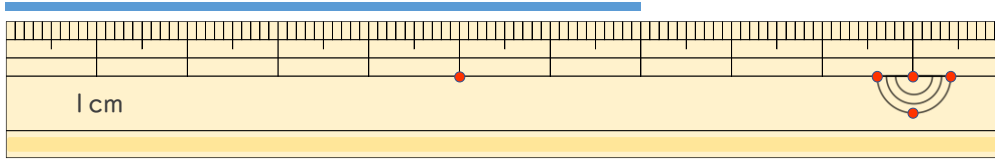


日にち： 月 日

名まえ \_\_\_\_\_

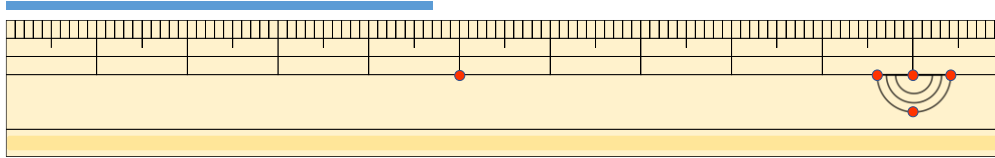
1 <sup>せん</sup> <sup>なが</sup> 線の長さはどれだけですか。

①



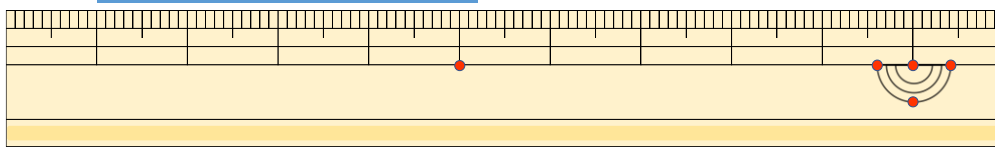
答え ( 7 cm )

②



<sup>こた</sup> 答え ( 4 cm 7 mm )

③



<sup>こた</sup> 答え ( 4 cm 2 mm )

2 <sup>せん</sup> <sup>なが</sup> 線の長さをものさしではかりましょう。

①



<sup>こた</sup> 答え ( 4 cm )

②



<sup>こた</sup> 答え ( 6 cm )

