





# 長さのたんい 7

● ものさしではかる (mm)

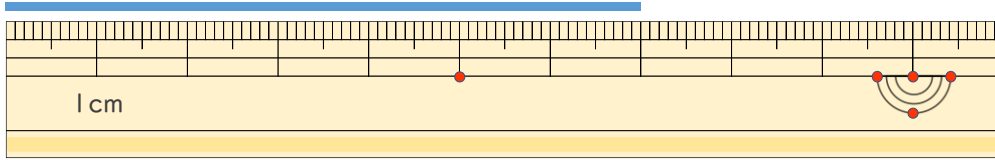


日にち： 月 日

名まえ \_\_\_\_\_

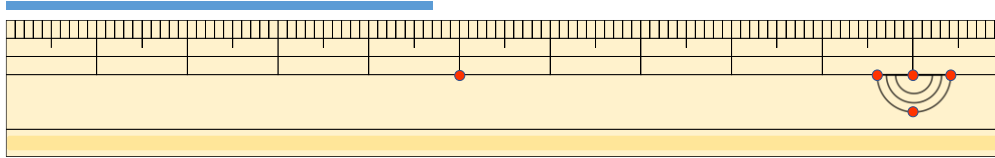
1 <sup>せん</sup>線の <sup>なが</sup>長さは どれだけですか。

①



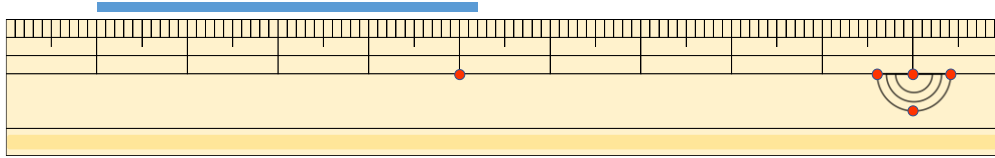
こた 答え ( 7 cm )

②



こた 答え ( 4 cm 7 mm )

③



こた 答え ( 4 cm 2 mm )

2 <sup>せん</sup>線の <sup>なが</sup>長さを ものさしではかりましょう。

①



こた 答え ( 4 cm )

②



こた 答え ( 6 cm )

