



長さのたんい 3

● ものさしの見かた (cm)

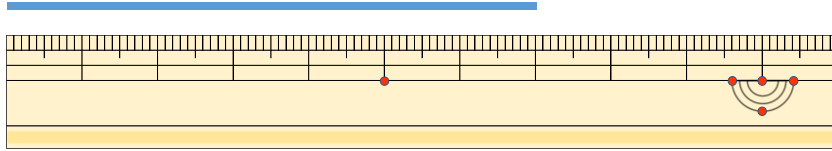


日にち： 月 日

名まえ _____

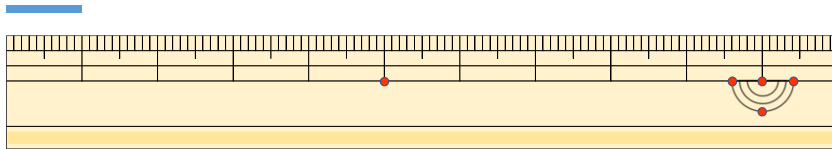
1 線の長さは何cmでしょう。

①



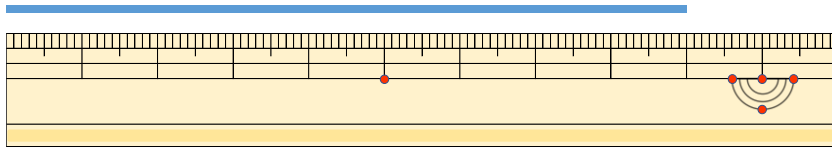
こた 答え ()

②



こた 答え ()

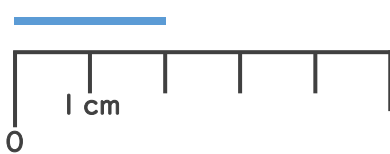
③



こた 答え ()

2 線の長さは何cmでしょう。

①



こた 答え ()

②



こた 答え ()





長さのたんい 3

● 物のさしの見かた (cm)

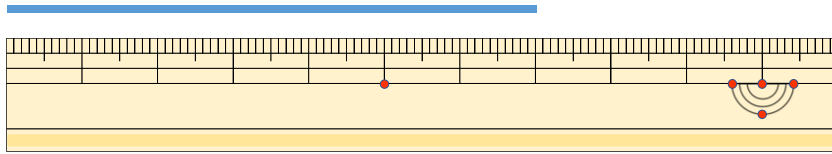


日にち： 月 日

名まえ _____

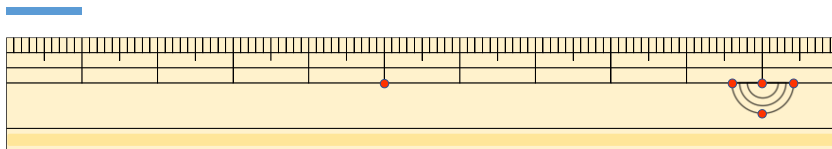
1 線の長さは何cmでしょう。

①



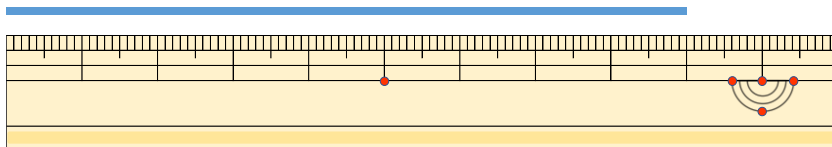
こた 答え (7 cm)

②



こた 答え (1 cm)

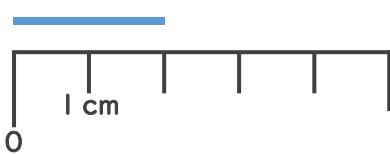
③



こた 答え (9 cm)

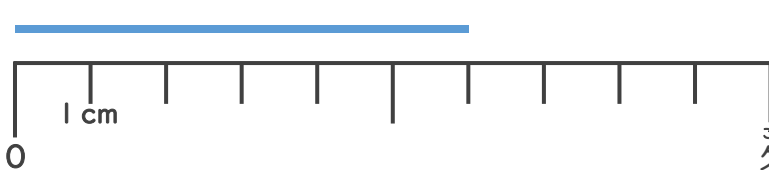
2 線の長さは何cmでしょう。

①



こた 答え (2 cm)

②



こた 答え (6 cm)

