



長さのたんい 6

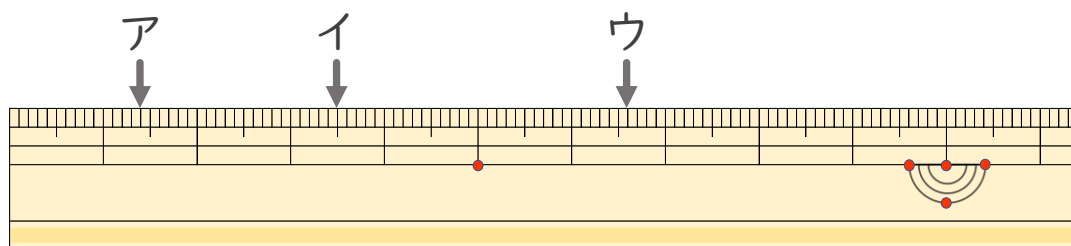
● 物のさしの見かた (mm)



日にち： 月 日

名まえ _____

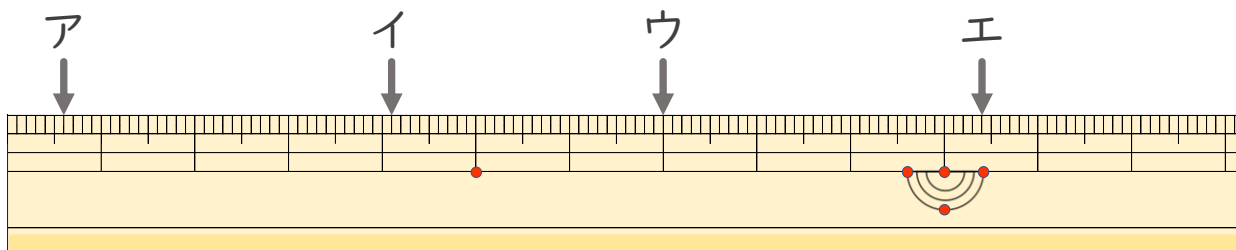
1 ^{ひだり}左はしから ア、イ、ウ、までの ^{なが}長さは それぞれ どれだけで
すか。



ア () イ ()

ウ ()

2 ^{ひだり}左はしから ア、イ、ウ、エまでの ^{なが}長さは それぞれ どれだけ
ですか。



ア () イ ()

ウ () エ ()





長さのたんい 6

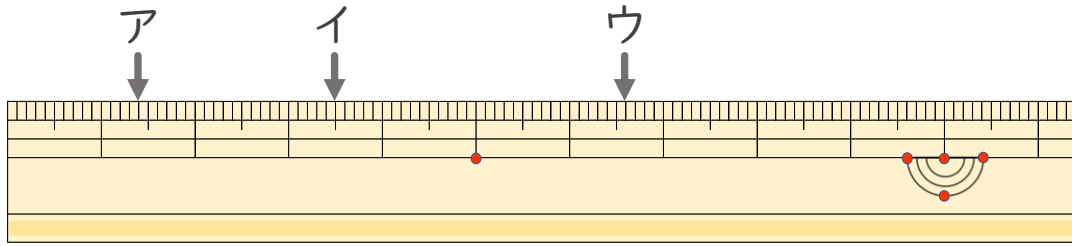
● 物のさしの見かた (mm)



日にち： 月 日

名まえ _____

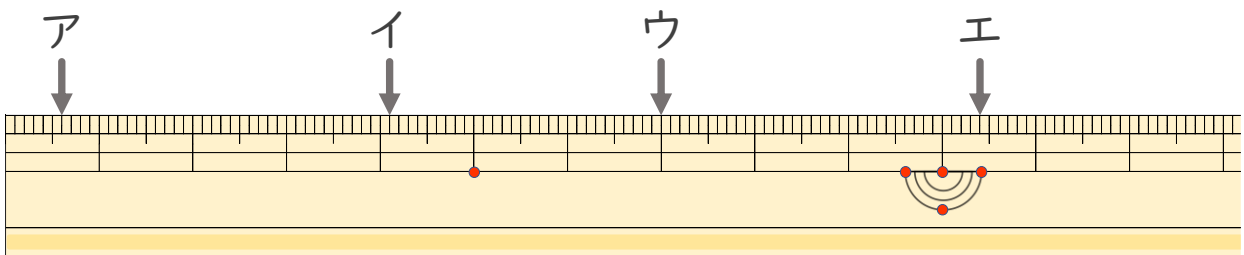
1 ^{ひだり} 左はしから ア、イ、ウ、までの ^{なが} 長さはそれぞれどれだけで
すか。



ア (1 cm 4 mm) イ (3 cm 5 mm)

ウ (6 cm 6 mm)

2 ^{ひだり} 左はしから ア、イ、ウ、エまでの ^{なが} 長さはそれぞれどれだけで
ですか。



ア (6 mm) イ (4 cm 1 mm)

ウ (7 cm) エ (10 cm 4 mm)

