



はこの形 4

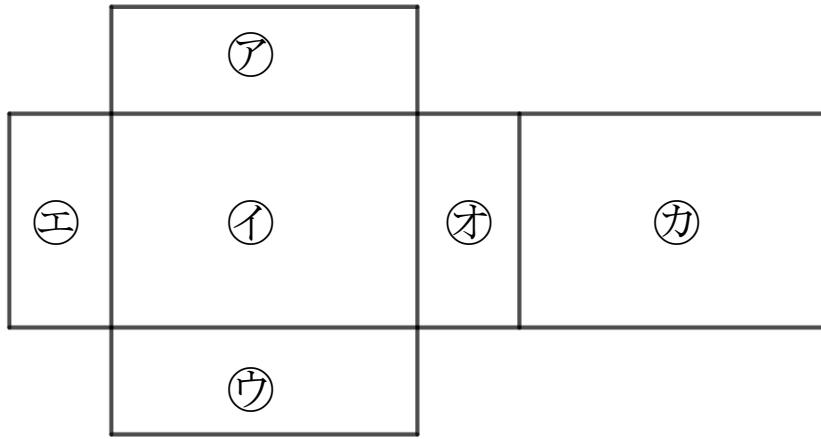
サイコロの向かい合う面



日にち： 月 日

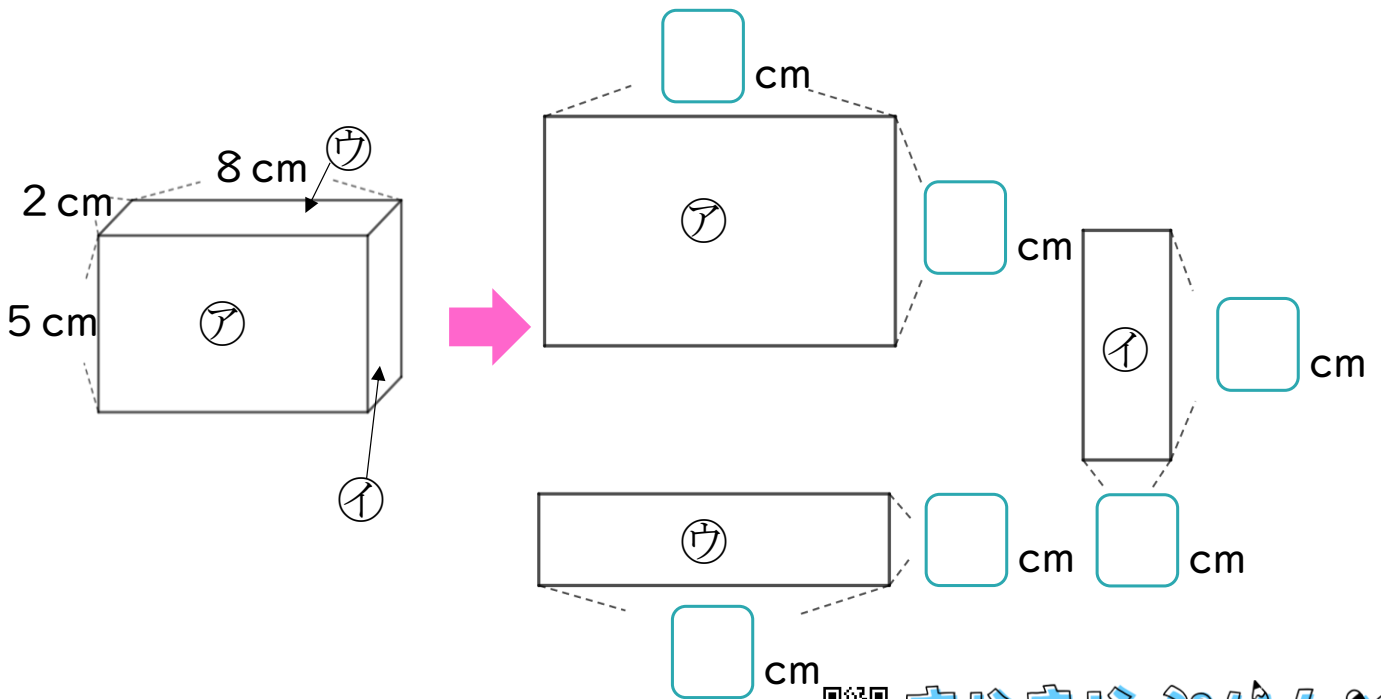
名まえ _____

- 1 つぎの図ははこの形を切りひらいたものです。
 組み立てたときにおかい合う面を3組さがして、
 ㉠～㉣で答えましょう。



答え： と , と , と

- 2 つぎのはこの面をうつしとりました。
 にあてはまる数をかきましょう。





はこの形 4

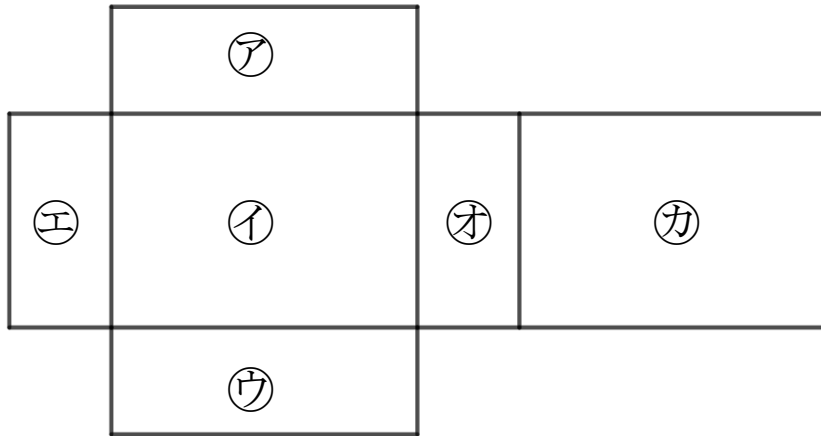
サイコロの向かい合う面



日にち： 月 日

名まえ _____

- 1 つぎの図ははこの形を切りひらいたものです。
 組み立てたときにおかい合う面を3組さがして、
 ㉠～㉣で答えましょう。



答え： ㉠ と ㉢ , ㉠ と ㉣ , ㉤ と ㉡

- 2 つぎのはこの面をうつしとりました。
 にあてはまる数をかきましょう。

