



はこの形 4

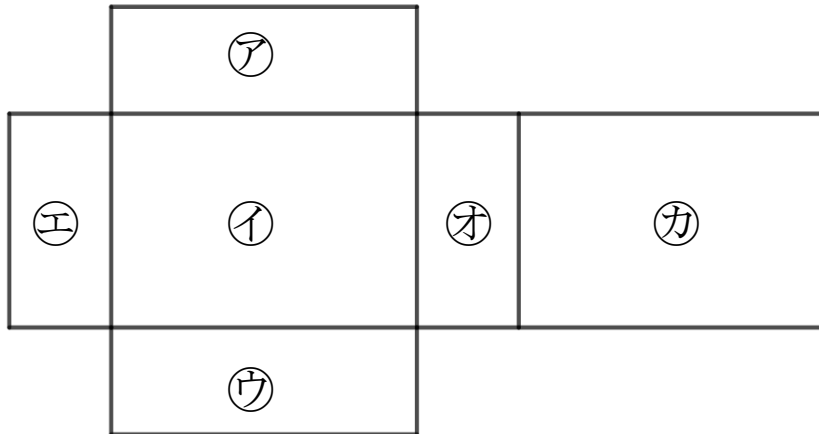
サイコロの向かい合う面



日にち： 月 日

名まえ _____

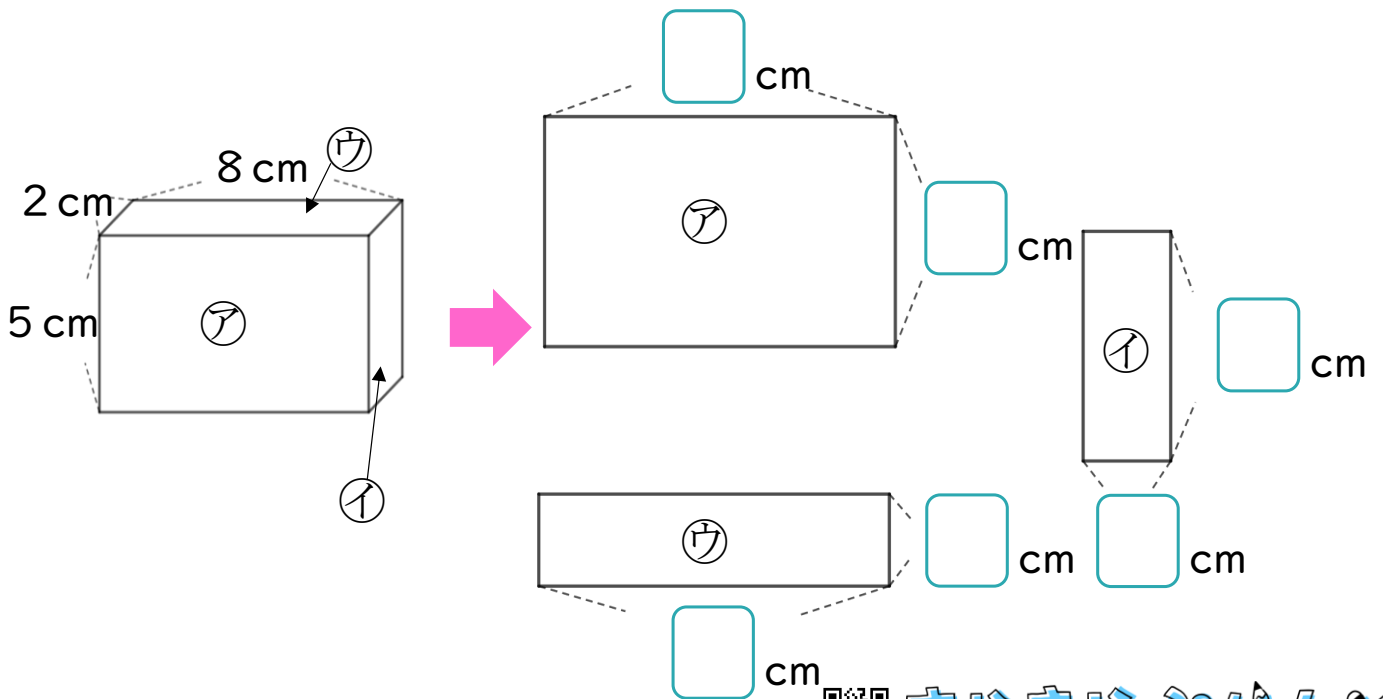
- 1 つぎの図ははこの形を切りひらいたものです。
 組み立てたときにおかい合う面を3組さがして、
 ㉠～㉣で答えましょう。



答え： と , と , と

- 2 つぎのはこの面をうつしとりました。

にあてはまる数を書きましょう。





はこの形 4

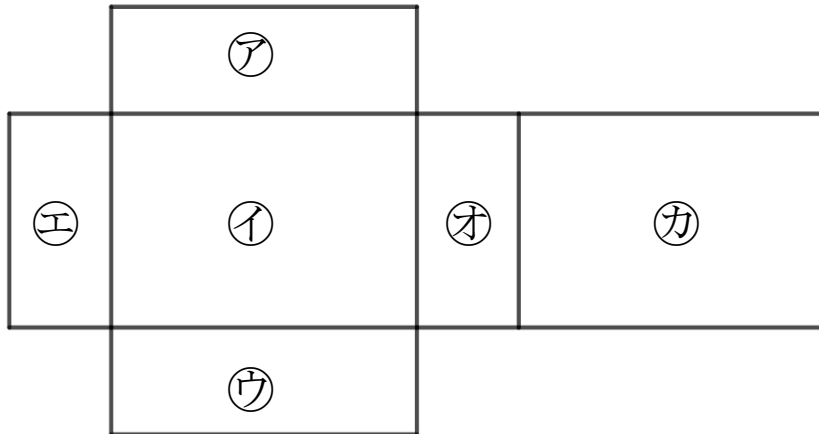
サイコロの向かい合う面



日にち： 月 日

名まえ _____

- 1 つぎの図ははこの形を切りひらいたものです。
組み立てたときにおかい合う面を3組さがして、
ア～カで答えましょう。



答え： ア と ウ , イ と カ , エ と オ

- 2 つぎのはこの面をうつしとりました。

□ にあてはまる数を書きましょう。

