



# 長さのたんい 2

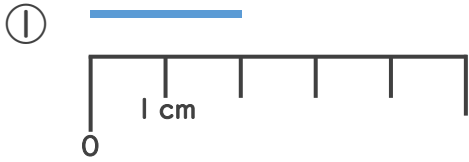
● センチメートル



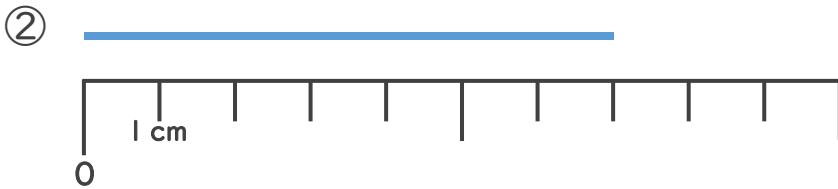
日にち： 月 日

名まえ \_\_\_\_\_

1 <sup>せん</sup>線の <sup>なが</sup>長さは <sup>なん</sup>何cmでしょう。



こた  
答え ( )



こた  
答え ( )

2 どちらのリボンが <sup>なが</sup>長いでしょう。



りかさん



みきさん



( \_\_\_\_\_ ) さんのリボンの方が <sup>なが</sup>長い





# 長さのたんい 2

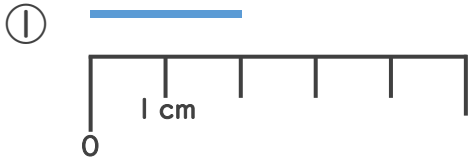
● センチメートル



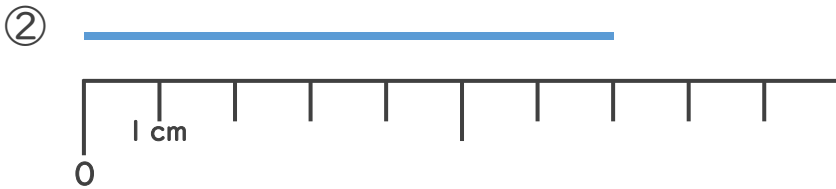
日にち：            月            日

名まえ \_\_\_\_\_

1 <sup>せん</sup>線の <sup>なが</sup>長さは <sup>なん</sup>何cmでしょう。



こた 答え ( **2 cm** )



こた 答え ( **7 cm** )


2 どちらの <sup>なが</sup>リボンが長いでしょう。



りかさん



みきさん



( **りか** ) さんの <sup>なが</sup>リボンの方が長い

