



かけ算 26

● テープの3ばいの長さ

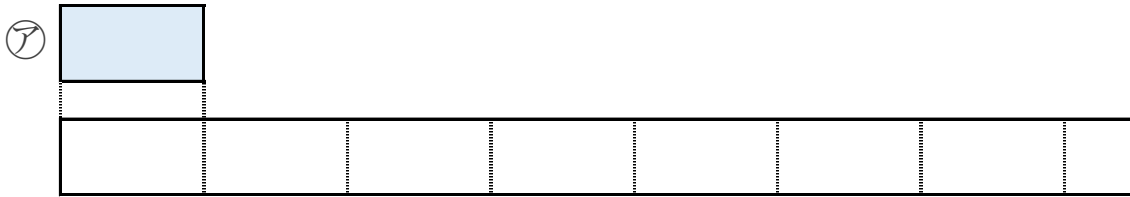


日にち： 月 日

名まえ _____

1 | ㊦のテープの6ばいの長さを求めましょう。

① ㊦のテープの6ばいの長さに色をぬりましょう。



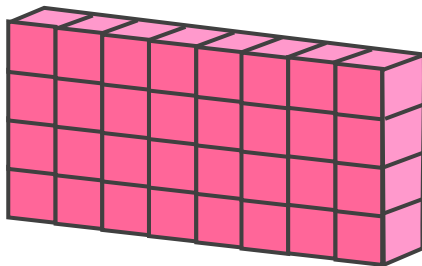
② ㊦のテープの長さをはかると、4cmでした。

①でぬったところの長さは何cmですか。

しき：

答え： _____

2 下のつみきの数をもとめるかけ算のしきを2つ書きましょう。



しき： () ()



かけ算 26

● テープの3ばいの長さ

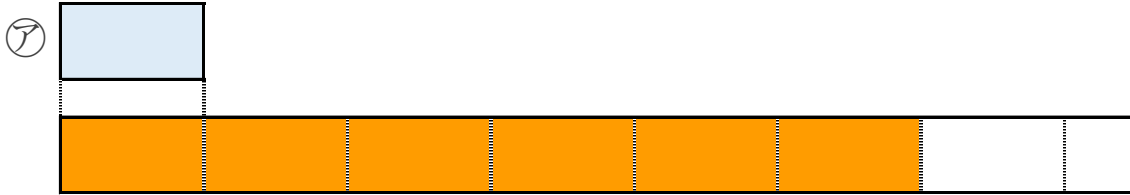


日にち： 月 日

名まえ _____

1 | ㊦のテープの6ばいの長さをもとめましょう。

① ㊦のテープの6ばいの長さに色をぬりましょう。



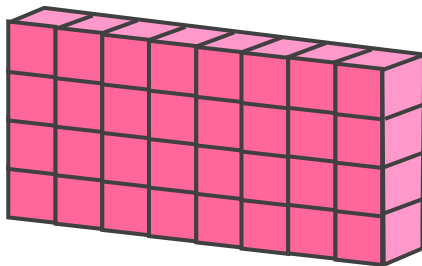
② ㊦のテープの長さをはかると、4cmでした。

①でぬったところの長さは何cmですか。

$$\text{しき} : 4 \times 6 = 24$$

答え： 24cm

2 下のつみきの数をもとめるかけ算のしきを2つ書きましょう。



$$\text{しき} : (4 \times 8) \quad (8 \times 4)$$

