



長さのたんい 5

● ミリメートル



日にち： 月 日

名まえ _____

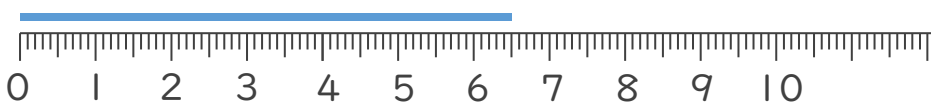
1 線の長さは何cm何mmでしょう。

①



こた 答え ()

②



こた 答え ()

③



こた 答え ()

2 線の長さをものさしではかりましょう。

①



こた 答え ()

②



こた 答え ()





長さのたんい 5

● ミリメートル




日にち： 月 日

名まえ _____

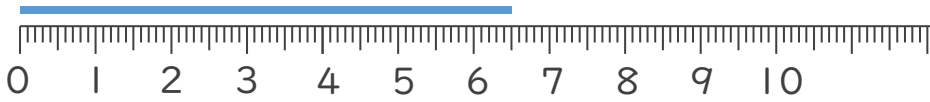
1 ^{せん}線の ^{なが}長さは ^{なん}何cm ^{なん}何mm でしょう。

①



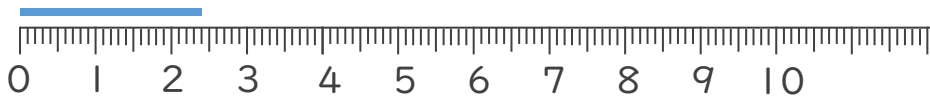
こた 答え (4 cm 2 mm)

②



こた 答え (6 cm 5 mm)

③



こた 答え (2 cm 4 mm)

2 ^{せん}線の ^{なが}長さを ^{ものさし}ものさしではかりましょう。

①



こた 答え (7 cm)

②



こた 答え (3 cm)

