



長さのたんい 5

● ミリメートル




日にち： 月 日

名まえ _____

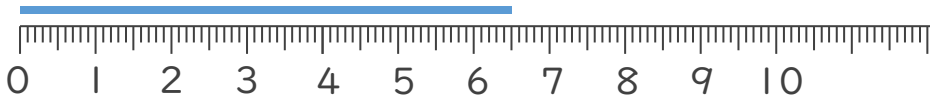
1 ^{せん} ^{なが} ^{なん} ^{なん}
線の長さは何cm何mmでしょう。

①



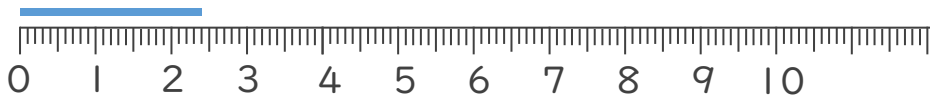
こた
答え (4 cm 2 mm)

②



こた
答え (6 cm 5 mm)

③



こた
答え (2 cm 4 mm)

2 ^{せん} ^{なが}
線の長さをものさしではかりましょう。

①



こた
答え (7 cm)

②



こた
答え (3 cm)

