



# かけ算 26

● リボンの2ばいの長さ

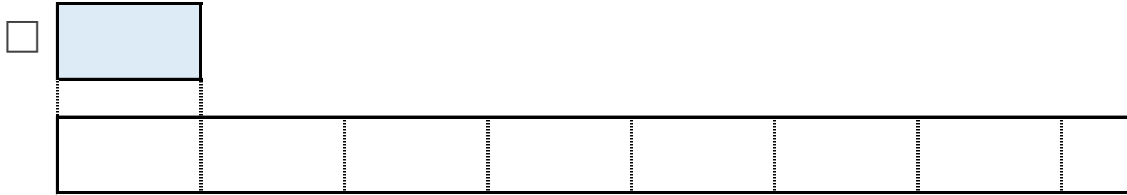


日にち：            月            日

名まえ \_\_\_\_\_

1 | ㊦のリボンの6ばいの長さをもとめましょう。

① ㊦のリボンの6ばいの長さに色をぬりましょう。



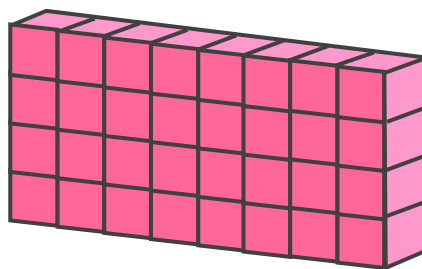
② ㊦のリボンの長さは、4cmです。

①でぬったところの長さは何cmですか。

しき：

答え： \_\_\_\_\_

2 下のつみきの数をもとめるかけ算のしきを2つ書きましょう。



しき： (            ) (            )





## かけ算 26

● リボンの2ばいの長さ

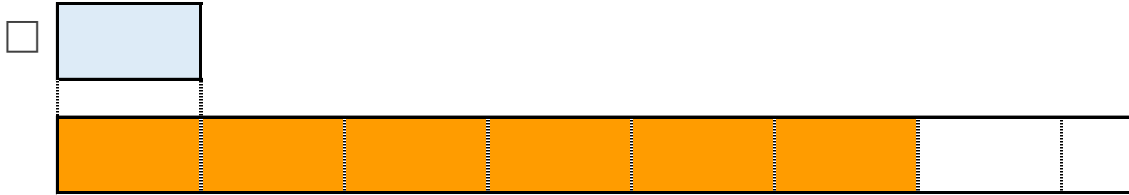


日にち：            月            日

名まえ \_\_\_\_\_

1 | ㊦のリボンの6ばいの長さをもとめましょう。

① ㊦のリボンの6ばいの長さに色をぬりましょう。



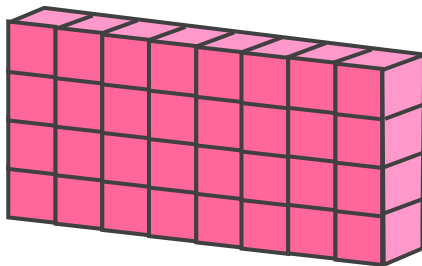
② ㊦のリボンの長さは、4cmです。

①でぬったところの長さは何cmですか。

$$\text{しき： } 4 \times 6 = 24$$

答え： 24cm

2 下のつみきの数をもとめるかけ算のしきを2つ書きましょう。



$$\text{しき： } (4 \times 8) \quad (8 \times 4)$$

