



長方形と正方形 2

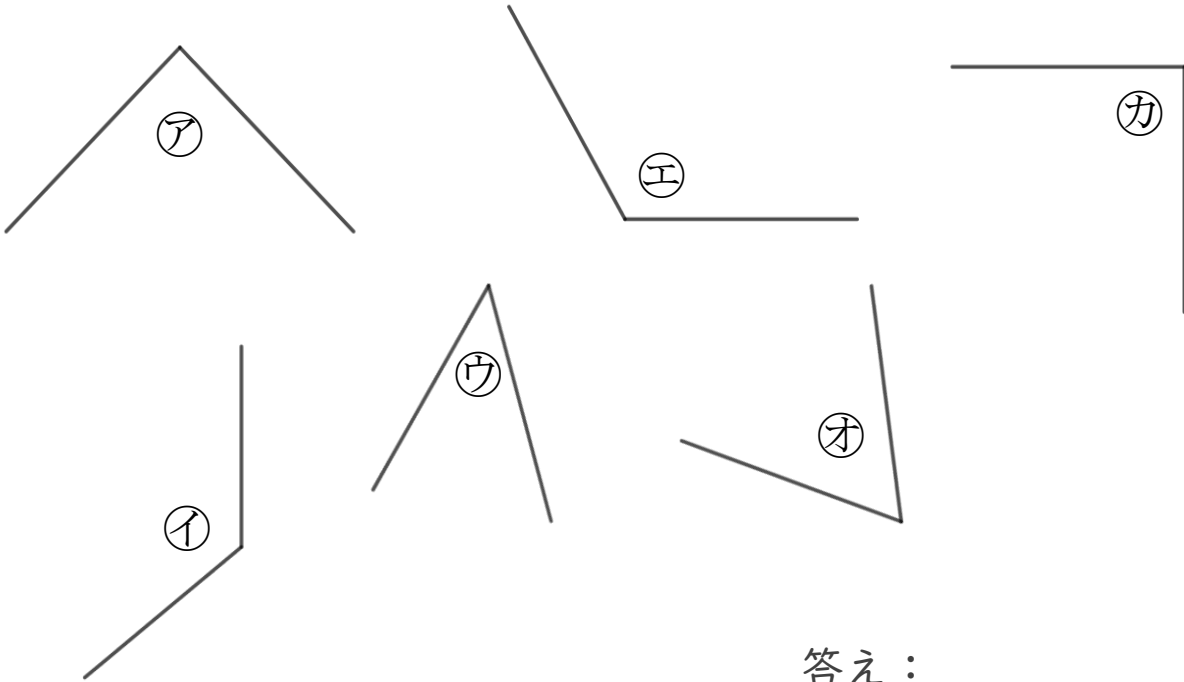
◎ 三角じょうぎの
直角の角はどれ？



日にち： 月 日

名まえ _____

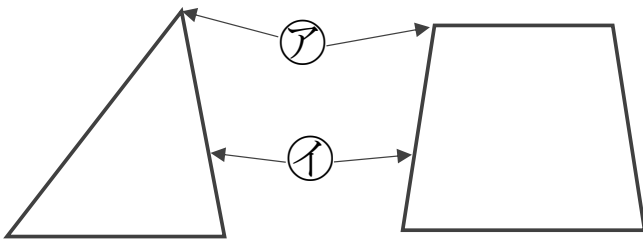
1 直角はどれですか。三角じょうぎをつかってぜんぶ見つけましょう。



答え： _____

2 つぎのもんだいに答えましょう。

① つぎの ア、イ の名前を答えましょう。



答え： ア...

イ...

② 三角形、四角形には、ちょう点やへんはそれぞれいくつありますか。

答え： 三角形... ちょう点 3つ、へん 3本

四角形... ちょう点 4つ、へん 4本



長方形と正方形 2

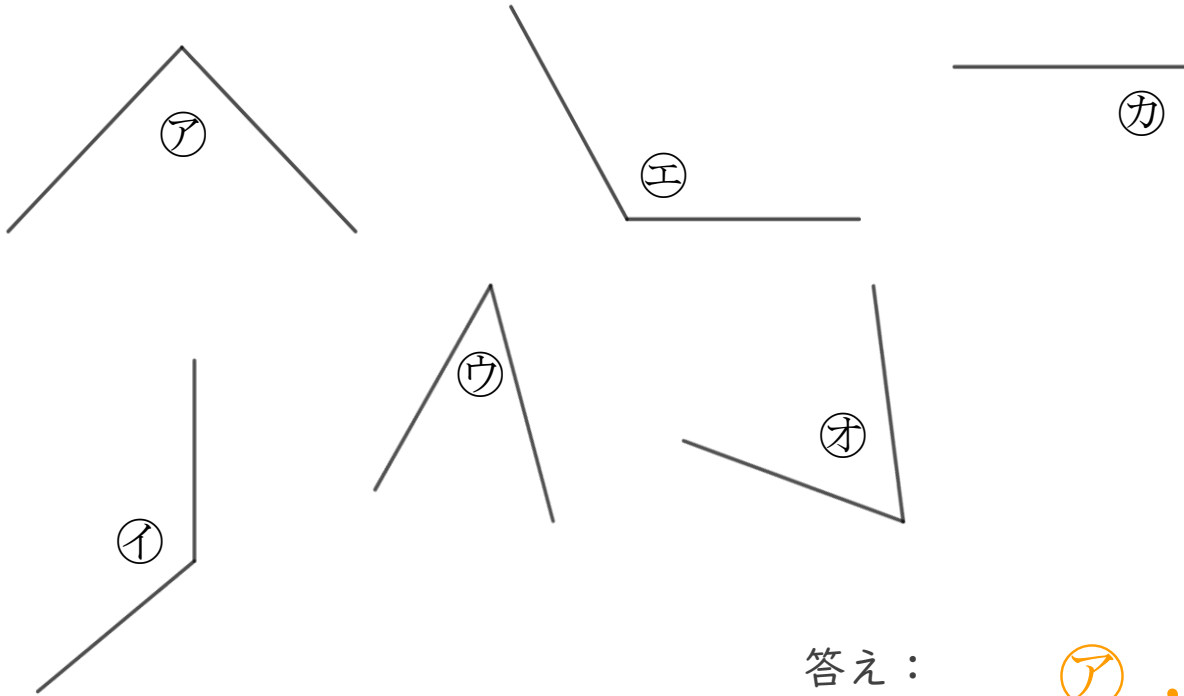
◎ 三角じょうぎの
直角の角はどれ？



日にち： 月 日

名まえ _____

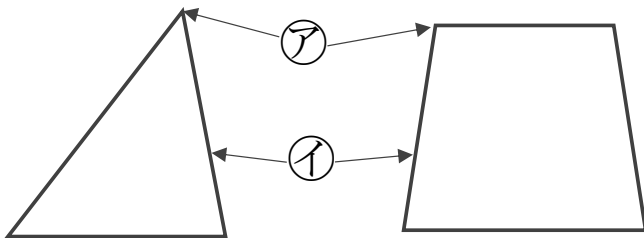
1 直角はどれですか。三角じょうぎをつかってぜんぶ見つけましょう。



答え： ア , カ

2 つぎのもんだいに答えましょう。

① つぎの ア、イ の名前を答えましょう。



答え： ア… ちょう点

イ… へん

② 三角形、四角形には、ちょう点やへんはそれぞれいくつありますか。

答え： 三角形… ちょう点 3つ、へん 3本

四角形… ちょう点 4つ、へん 4本