



# 3けたの数8

◎ 十ずつのメモリの数直線

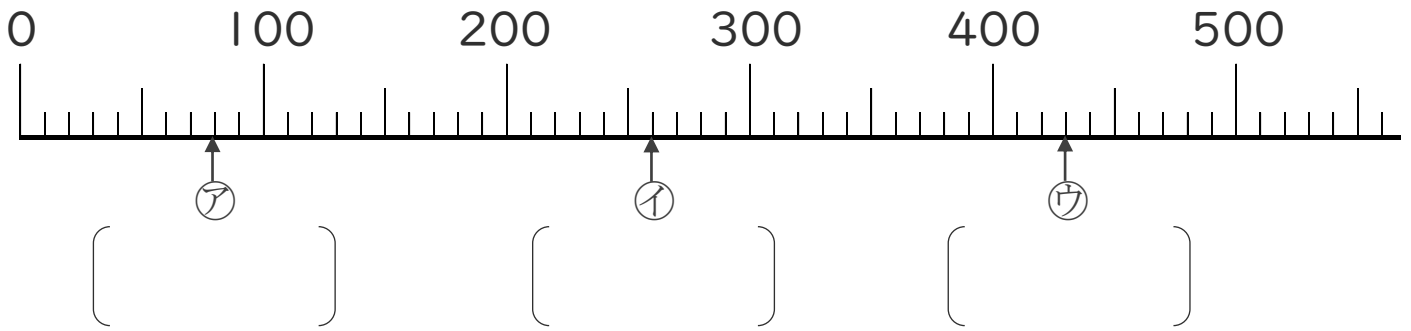


日にち：            月            日

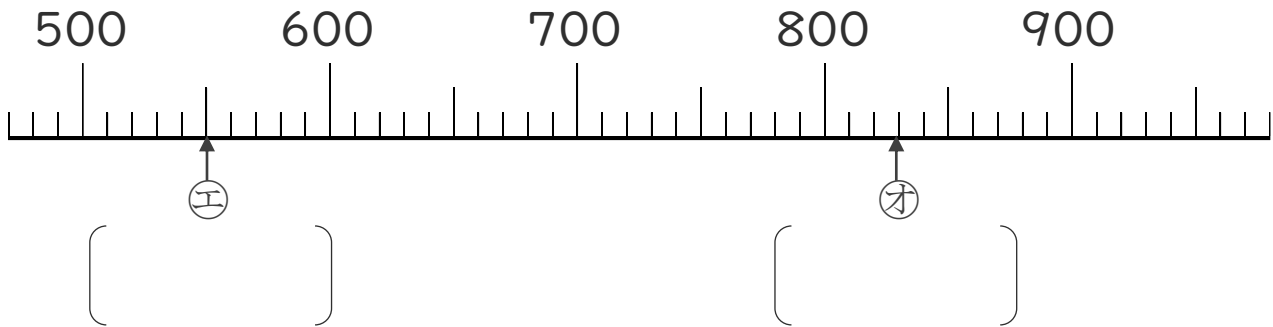
名まえ \_\_\_\_\_

1 数の線を見て、ア、イ、ウ、エ、オのメモ리가あらわす数をいみましょう。

①

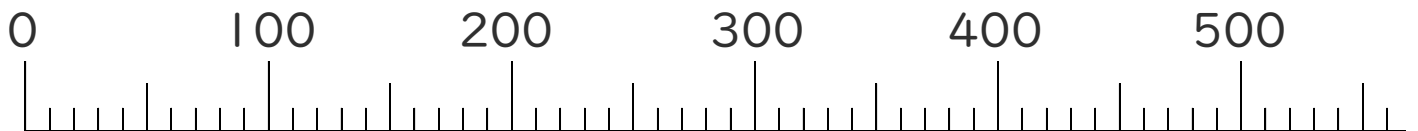


②



2 つぎの数をあらわすメモりに、↑をかきましょう。

① 110    ② 280    ③ 350





# 3けたの数8

十ずつのメモリの数直線

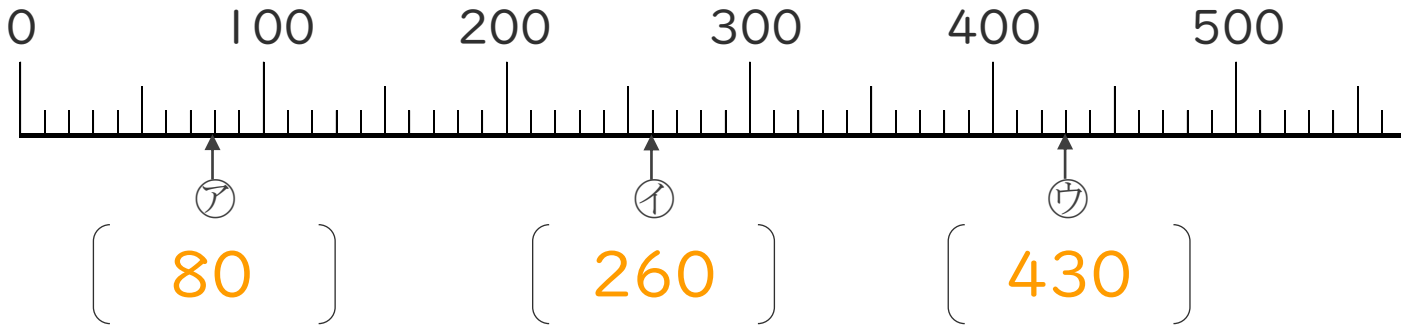


日にち：            月            日

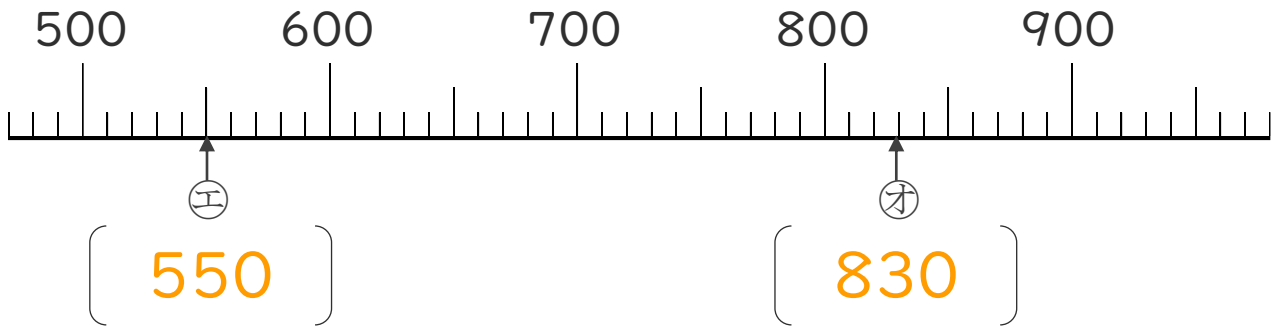
名まえ \_\_\_\_\_

1 数の線を見て、ア、イ、ウ、エ、オのメモリがあらわす数をいみましょう。

①



②



2 つぎの数をあらわすメモリに、↑をかきましょう。

①110    ②280    ③350

