



分数5

● 同じ長さに分けた
テープの1つ分の長さ

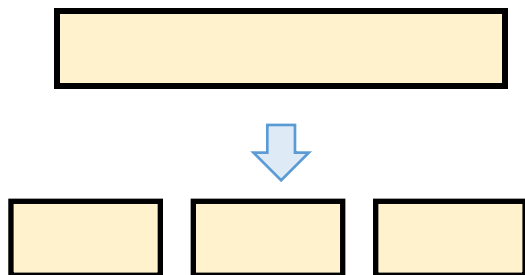


日にち： 月 日

名まえ _____

- 1 同じ長さになるように、テープを3つに分けました。
分けた1つ分の長さは、もとの長さの何分の一ですか。

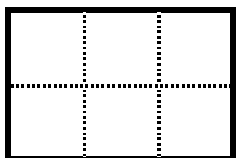
もとの長さ




答え： _____

- 2 つぎの大きさに色をぬりましょう。


① $\frac{1}{6}$




④ $\frac{1}{8}$




② $\frac{1}{5}$



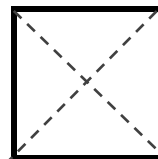
⑤ $\frac{1}{2}$



③ $\frac{1}{3}$



⑥ $\frac{1}{4}$





分数5

● 同じ長さに分けた
テープの1つ分の長さ

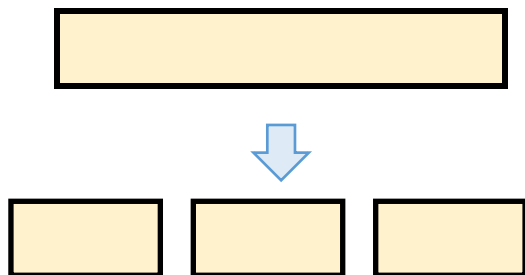


日にち： 月 日

名まえ _____

- 1 同じ長さになるように、テープを3つに分けました。
分けた1つ分の長さは、もとの長さの何分の一ですか。

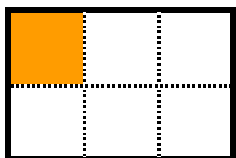
もとの長さ




答え： $\frac{1}{3}$

- 2 つぎの大きさに色をぬりましょう。


① $\frac{1}{6}$




④ $\frac{1}{8}$




② $\frac{1}{5}$



⑤ $\frac{1}{2}$



③ $\frac{1}{3}$



⑥ $\frac{1}{4}$

