



# 長方形と正方形 7

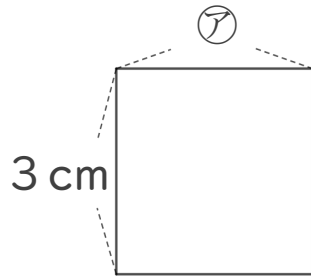
◎ 正方形のまわりの長さ



日にち： 月 日

名まえ \_\_\_\_\_

1 下の形は正方形です。つぎのもんだいに答えましょう。



① アのへんの長さは、何cmですか。

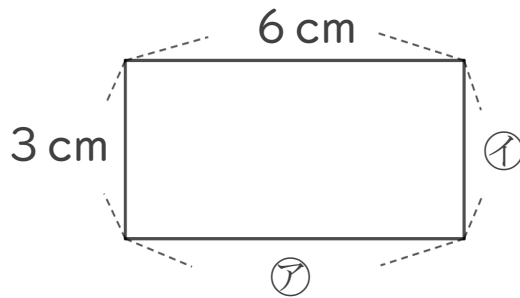
答え： \_\_\_\_\_

② この正方形のまわりの長さは何cmですか。

しき：

答え： \_\_\_\_\_

2 下の形は長方形です。つぎのもんだいに答えましょう。



① ア、イのへんの長さは、それぞれ何cmですか。

答え： ア・・・

イ・・・

② この長方形のまわりの長さは何cmですか。

しき：

答え： \_\_\_\_\_



# 長方形と正方形 7

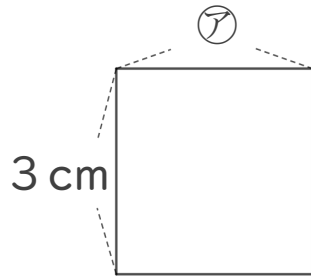
◎ 正方形のまわりの長さ



日にち： 月 日

名まえ \_\_\_\_\_

1 下の形は正方形です。つぎのもんだいに答えましょう。



① アのへんの長さは、何cmですか。

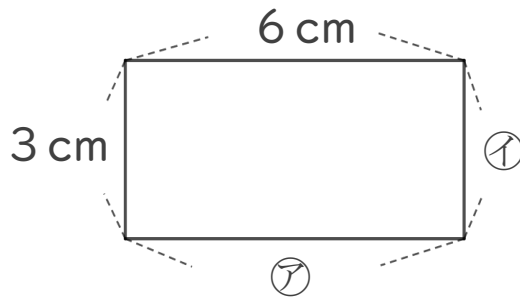
答え： 3 cm

② この正方形のまわりの長さは何cmですか。

$$\text{しき： } 3 + 3 + 3 + 3 = 12$$

答え： 12 cm

2 下の形は長方形です。つぎのもんだいに答えましょう。



① ア、イのへんの長さは、それぞれ何cmですか。

答え： ア... 6 cm    イ... 3 cm

② この長方形のまわりの長さは何cmですか。

$$\text{しき： } 3 + 3 + 6 + 6 = 18$$

答え： 18 cm