



長さのたんい 8

◎ 直線の長さをはかる (mm)



日にち： 月 日

名まえ _____

1 線の^{せん}長さ^{なが}をものさしではかりましょう。

①



答え ()

②



答え ()

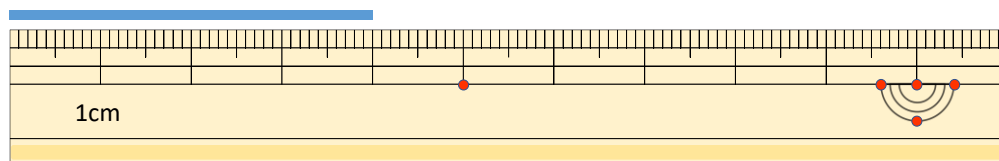
③



答え ()

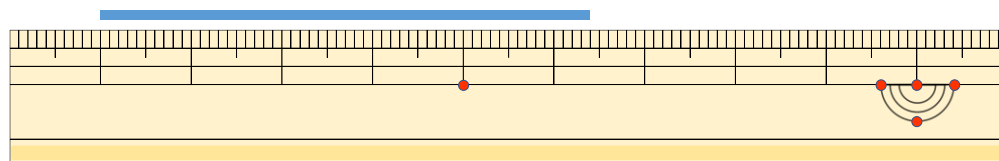
2 線の^{せん}長さ^{なが}はどれだけですか。

①



答え ()

②



答え ()





長さのたんい 8

◎ 直線の長さをはかる (mm)



日にち： 月 日

名まえ _____

1 ^{せん}線の ^{なが}長さをものさしではかりましょう。

①



こた 答え (5 cm 6 mm)

②



こた 答え (5 cm)

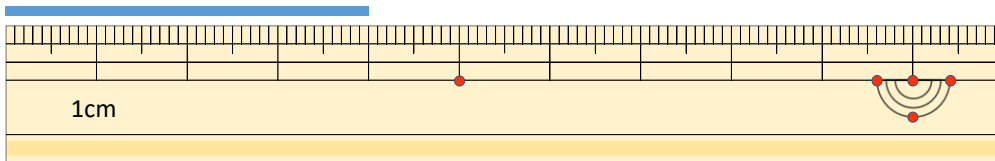
③



こた 答え (6 cm 4 mm)

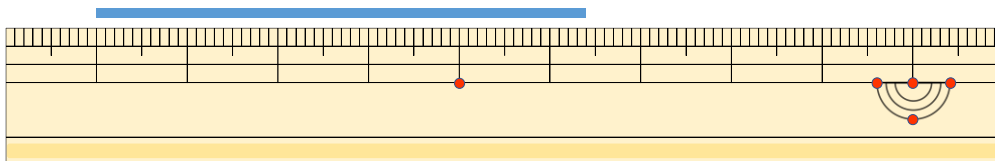
2 ^{せん}線の ^{なが}長さはどれだけですか。

①



こた 答え (4 cm)

②



こた 答え (5 cm 4 mm)

