



はこの形 5

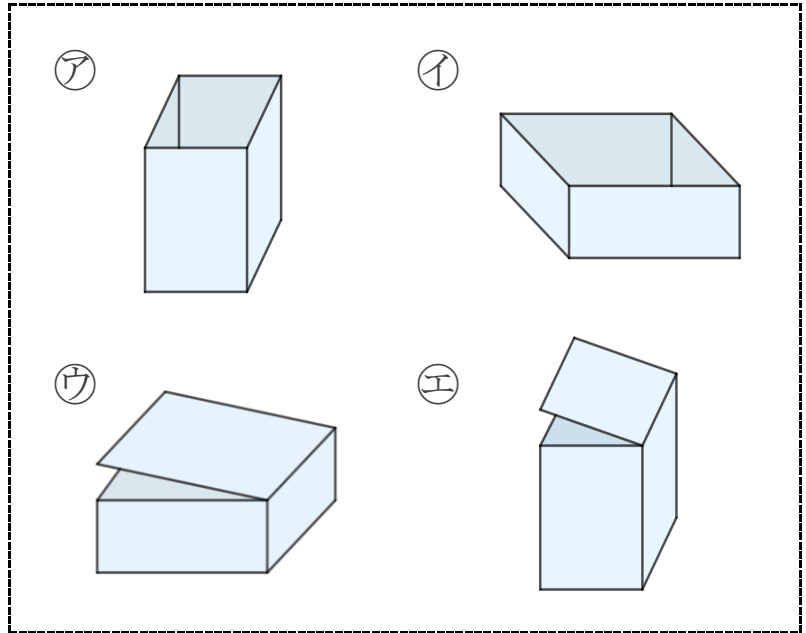
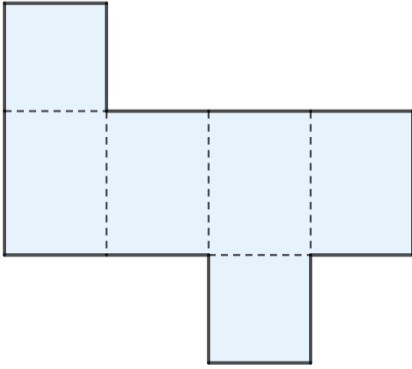
● 組み立てて
できる箱はどれ？



日にち： 月 日

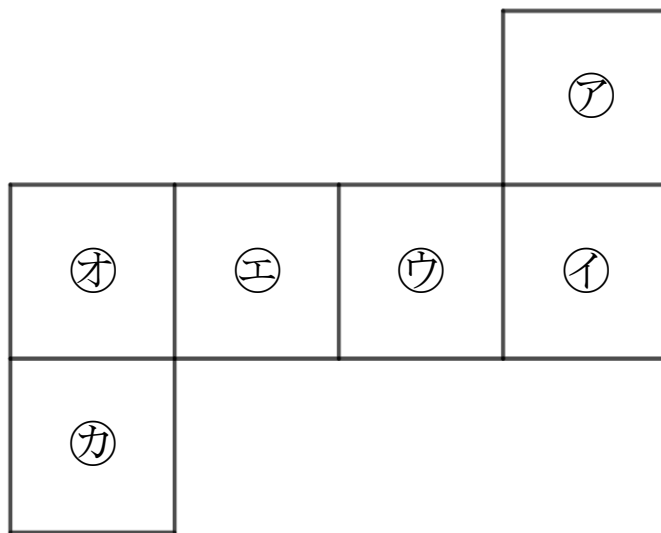
名まえ _____

1 組み立てると、どのはこができますか。㉠～㉤で答えましょう。



答え： _____

2 つぎの図は さいころの形を切りひらいたものです。
組み立てたときにおかい合う面を3組さがして、㉠～㉣で答えましょう。



答え： と , と , と



はこの形 5

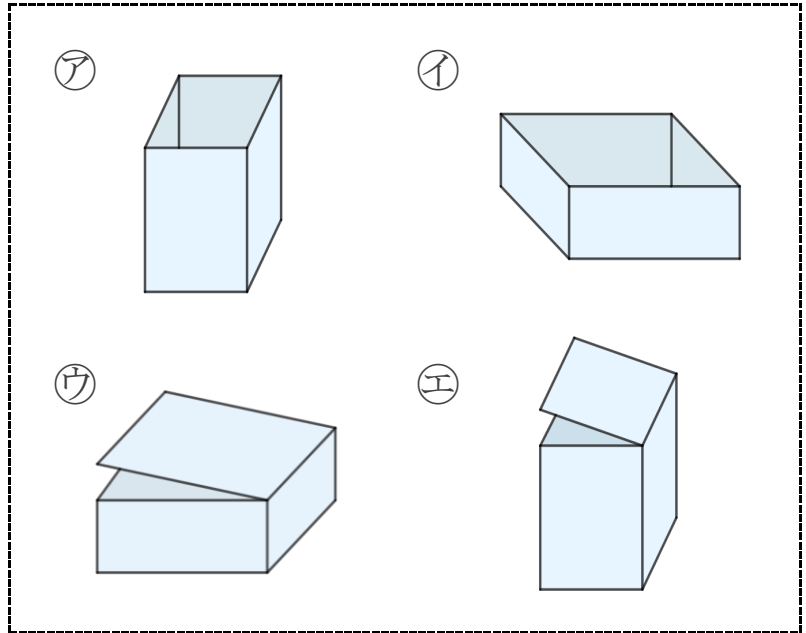
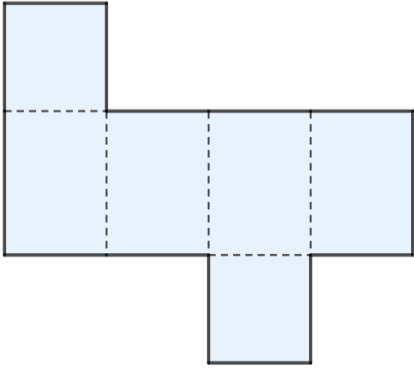
● 組み立てて
できる箱はどれ？



日にち： 月 日

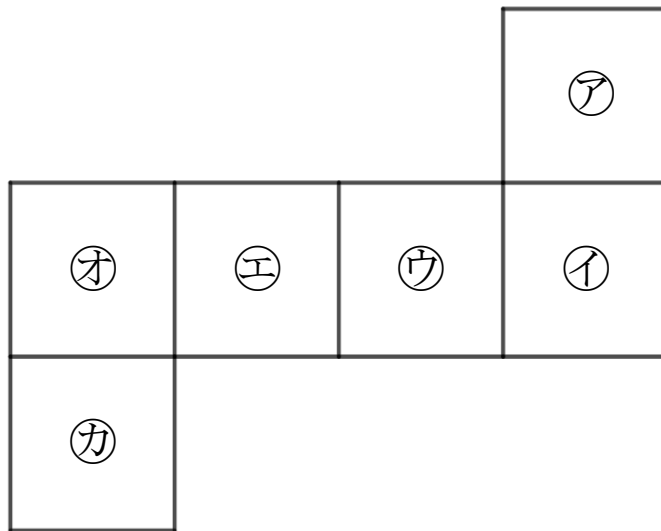
名まえ _____

1 組み立てると、どのはこができますか。㉠～㉥で答えましょう。



答え： **㉣**

2 つぎの図は さいころの形を切りひらいたものです。
組み立てたときにおかい合う面を3組さがして、㉠～㉦で答えましょう。



答え： **㉠ と ㉥** , **㉣ と ㉡** , **㉣ と ㉢**