

分数 2

色をぬった部分は何分の一？

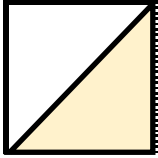


日にち： 月 日

名まえ

・色をぬったぶんはもとの大きさの何分の一ですか。

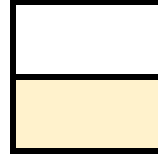
①



答え：

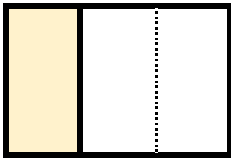
$$\frac{1}{2}$$

④



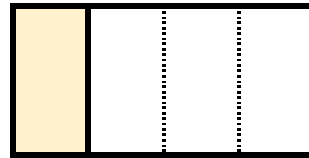
答え：

②



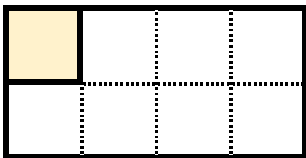
答え：

⑤




答え：

③




答え：

⑥



答え：



分数 2

色をぬった部分は何分の一？

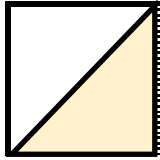


日にち： 月 日

名まえ

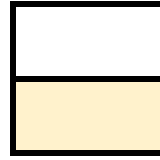
・色をぬったぶんはもとの大きさの何分の一ですか。

①



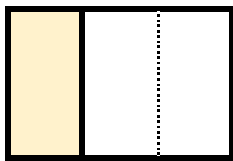
答え： $\frac{1}{2}$

④



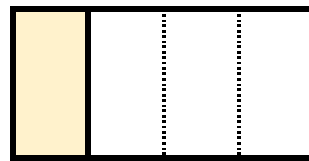
答え： $\frac{1}{2}$

②



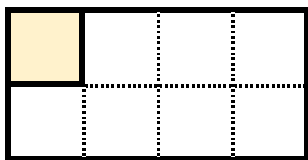
答え： $\frac{1}{3}$

⑤




答え： $\frac{1}{4}$

③



答え： $\frac{1}{8}$

⑥



答え： $\frac{1}{5}$

