



長方形と正方形 8

● 長方形や直角三角形をかいてみよう

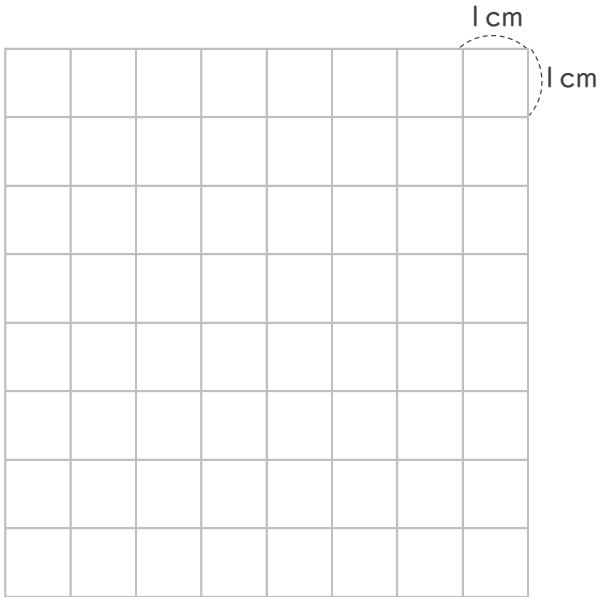


日にち： 月 日

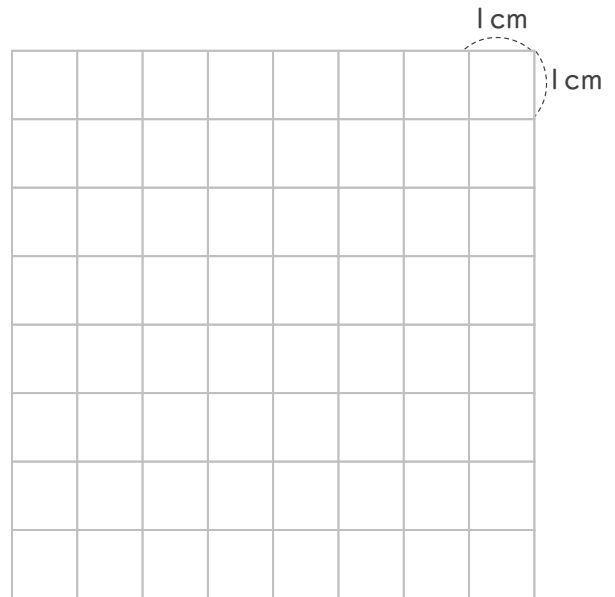
名まえ _____

1 つぎの形をかきましょう。

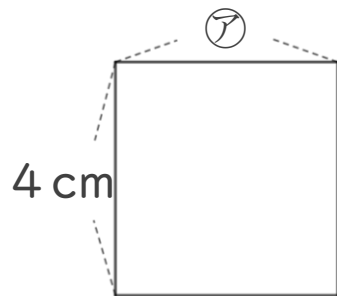
- ① 1つのへんの長さが6 cmの正方形。



- ② 5 cmのへんと7 cmのへんの間に直角のかどがある直角三角形。



2 つぎの形は正方形です。つぎのもんだいに答えましょう。



- ① アのへんの長さは、何cmですか。

答え： _____

- ② この正方形のまわりの長さは何cmですか。

しき：

答え： _____



長方形と正方形 8

● 長方形や直角三角形をかいてみよう

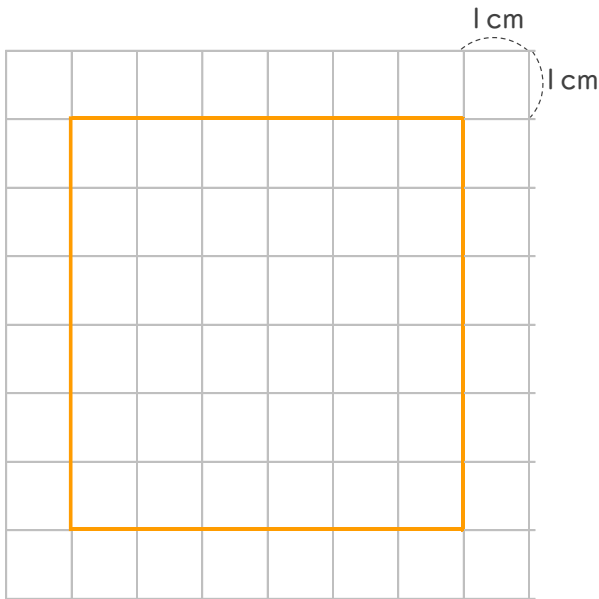


日にち： 月 日

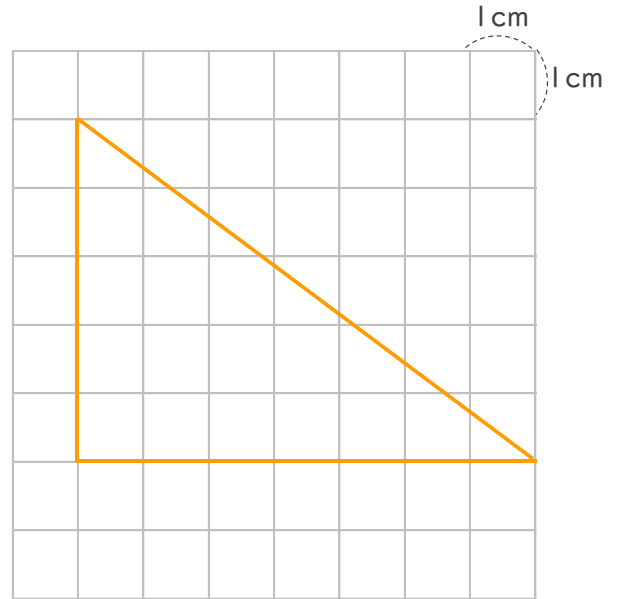
名まえ _____

1 つぎの形をかきましょう。

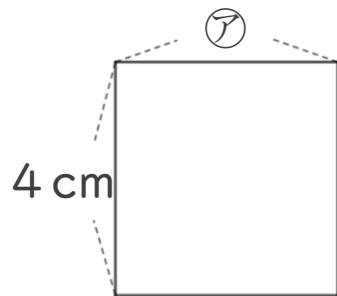
- ① 1つのへんの長さが6 cmの正方形。



- ② 5 cmのへんと7 cmのへんの間に直角のかどがある直角三角形。



2 つぎの形は正方形です。つぎのもんだいに答えましょう。



- ① アのへんの長さは、何cmですか。

答え： 4 cm

- ② この正方形のまわりの長さは何cmですか。

$$\text{しき： } 4 + 4 + 4 + 4 = 16$$

答え： 16 cm

