



かけ算 3

● かけ算のしきを作ろう

12

日にち： 月 日

名まえ _____

・ かけ算のしきに書きましょう。


① 5本



の 3つ分

しき：


② 7こ



の 4ばい

しき：


③ 6こ



の 8はこ分

しき：

④ 3本



の 2ばい

しき：





かけ算 3

● かけ算のしきを作ろう

12

日にち： 月 日

名まえ _____

・ かけ算のしきに書きましょう。


① 5本



の 3つ分

しき： 5×3


② 7こ



の 4ばい

しき： 7×4


③ 6こ



の 8はこ分

しき： 6×8

④ 3本



の 2ばい

しき： 3×2

