

分数6


● もとの大きさはいくつ分？

12

日にち：            月            日

名まえ \_\_\_\_\_

1 もとの長さの  $\frac{1}{5}$  をいくつあつめると、もとの長さになりますか。

もとの長さの  $\frac{1}{5}$  

もとの長さ 

答え： \_\_\_\_\_

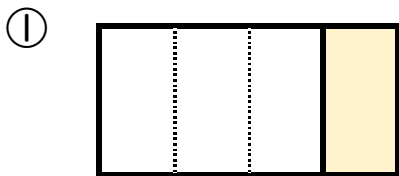
2 もとの長さの  $\frac{1}{2}$  をいくつあつめると、もとの長さになりますか。

もとの長さの  $\frac{1}{2}$  

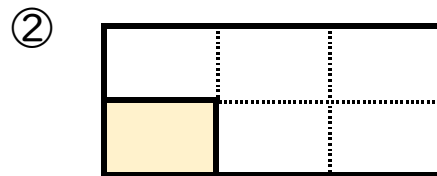
もとの長さ 

答え： \_\_\_\_\_

3 色をぬったぶぶんはもとの大きさの何分の一ですか。



答え： \_\_\_\_\_



答え： \_\_\_\_\_



分数6

● もとの大きさはいくつ分？

12

日にち： 月 日


名まえ

1 もとの長さの  $\frac{1}{5}$  をいくつあつめると、もとの長さになりますか。

もとの長さの  $\frac{1}{5}$



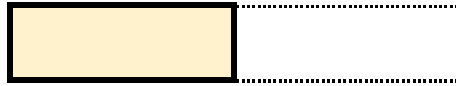
もとの長さ



答え： 5つ

2 もとの長さの  $\frac{1}{2}$  をいくつあつめると、もとの長さになりますか。

もとの長さの  $\frac{1}{2}$



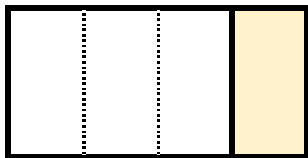
もとの長さ



答え： 2つ

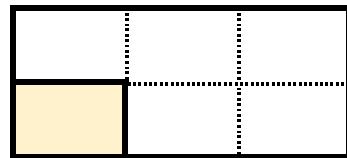
3 色をぬったぶぶんはもとの大きさの何分の一ですか。

①



答え：  $\frac{1}{4}$

②



答え：  $\frac{1}{6}$

