



長さのたんい 7

● ものさしではかる (mm)

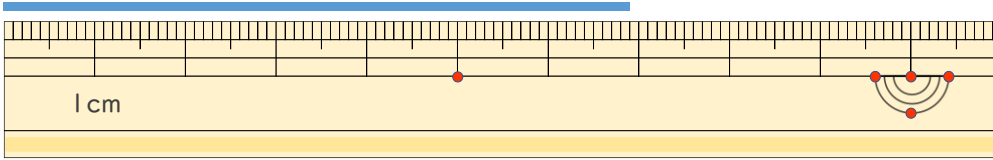
12

日にち： 月 日

名まえ _____

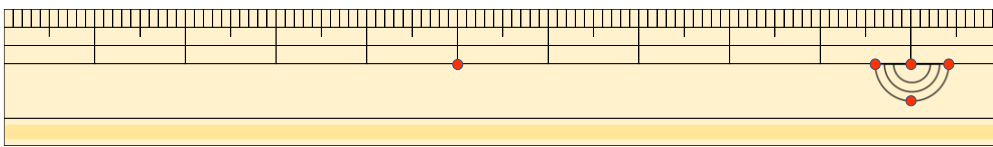
1 ^{せん}線の ^{なが}長さは どれだけですか。

①



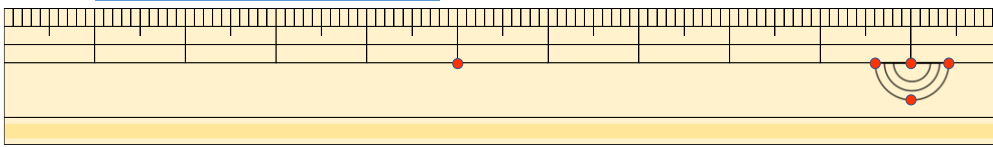
答え ()

②



^{こた}答え ()

③



^{こた}答え ()

2 ^{せん}線の ^{なが}長さを ものさしではかりましょう。

①



^{こた}答え ()

②



^{こた}答え ()





長さのたんい 7

● ものさしではかる (mm)

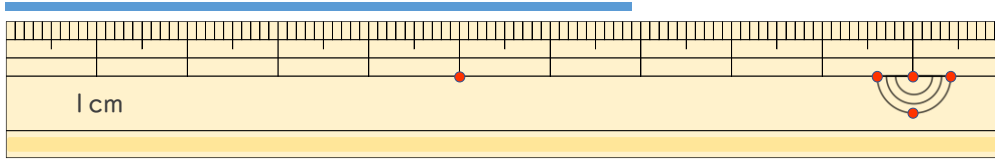
12

日にち： 月 日

名まえ _____

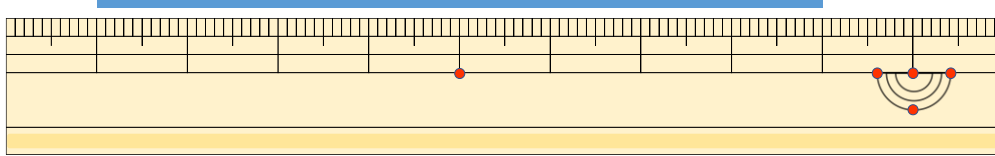
1 ^{せん}線の ^{なが}長さは どれだけですか。

①



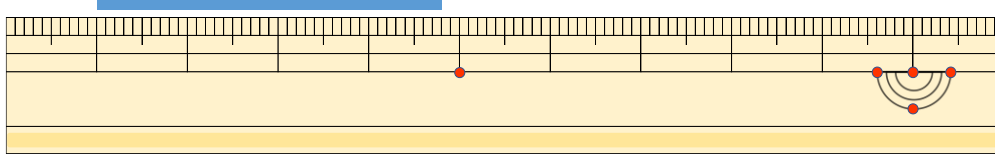
答え (6 cm 9 mm)

②



こた 答え (8 cm)

③



こた 答え (3 cm 8 mm)

2 ^{せん}線の ^{なが}長さを ものさしではかりましょう。

①



こた 答え (5 cm)

②



こた 答え (7 cm)

