



長さのたんい 3

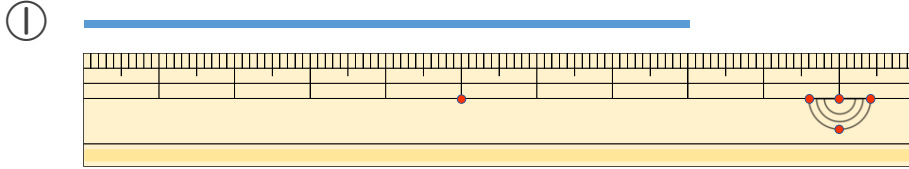
● 物のさしの見かた (cm)

12

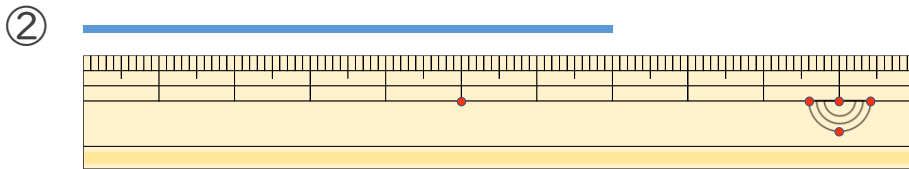
日にち： 月 日

名まえ _____

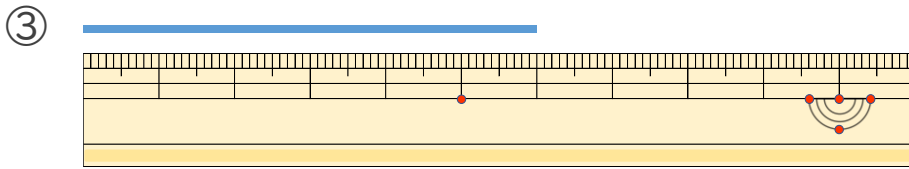
1 線の長さは何cmでしょう。



こた 答え ()

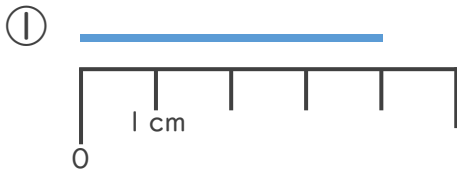


こた 答え ()

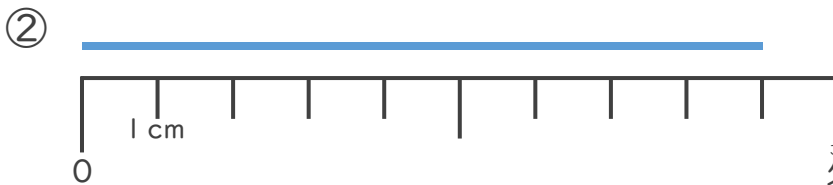


こた 答え ()

2 線の長さは何cmでしょう。



こた 答え ()



こた 答え ()





長さのたんい 3

● ものさしの見かた (cm)

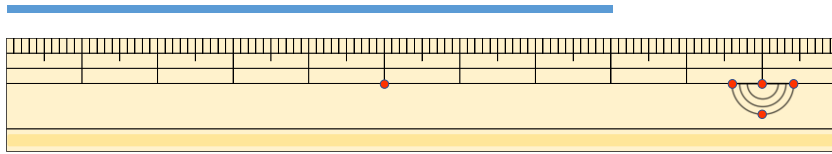
12

日にち： 月 日

名まえ _____

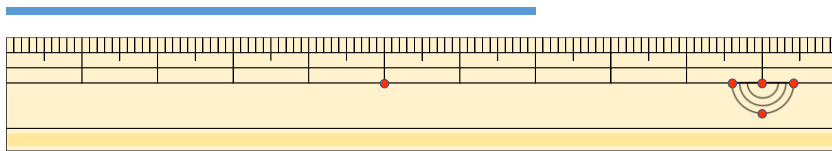
1 線の長さは何cmでしょう。

①



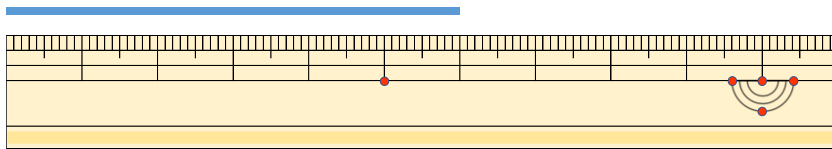
こた 答え (8 cm)

②



こた 答え (7 cm)

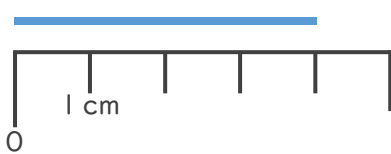
③



こた 答え (6 cm)

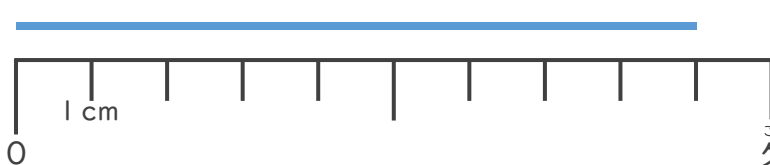
2 線の長さは何cmでしょう。

①



こた 答え (4 cm)

②



こた 答え (9 cm)

