



はこの形 4

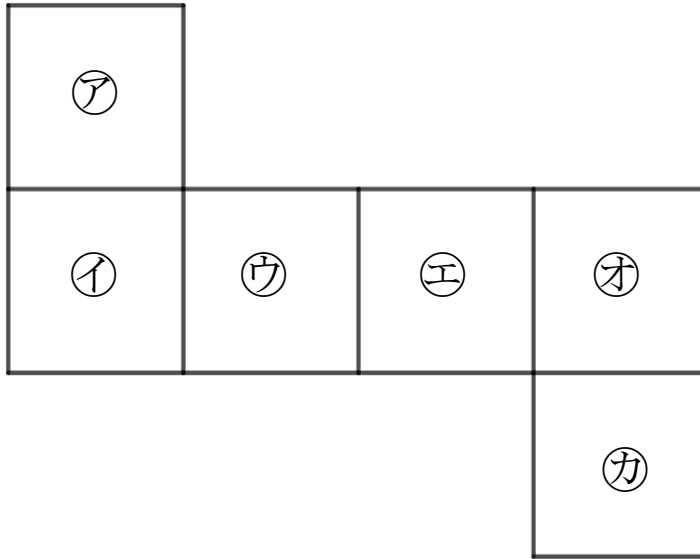
サイコロの向かい合う面



日にち： 月 日

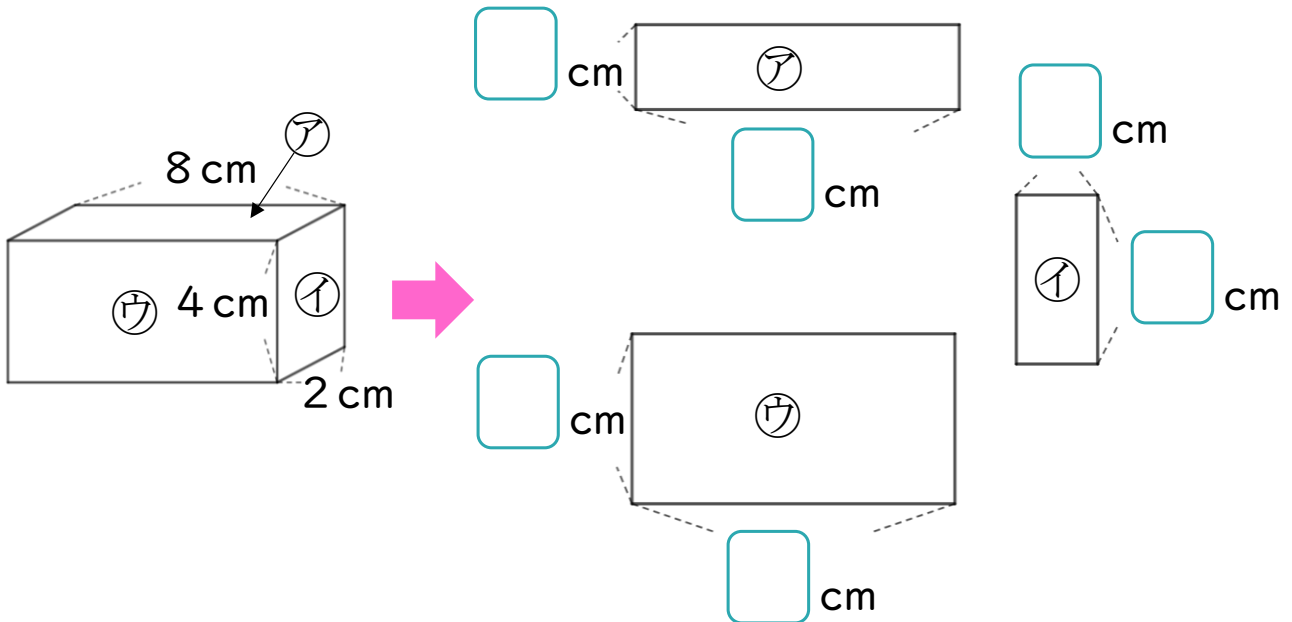
名まえ _____

- 1 つぎの図はサイコロの形を切りひらいたものです。組み立てたときにおかい合う面を3組さがして、㉠～㉣で答えましょう。



答え： と , と , と

- 2 つぎのはこの面をうつしとりました。
□ にあてはまる数をかきましょう。





はこの形 4

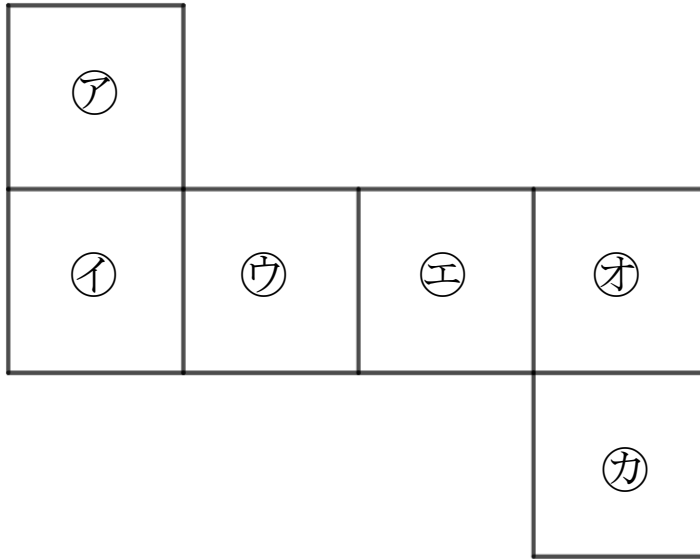
サイコロの向かい合う面

12

日にち： 月 日

名まえ _____

1 つぎの図はサイコロの形を切りひらいたものです。組み立てたときにおかい合う面を3組さがして、ア～カで答えましょう。



答え： ア と カ , イ と エ , ウ と オ

2 つぎのはこの面をうつしとりました。
□ にあてはまる数をかきましょう。

