



長さのたんい 2

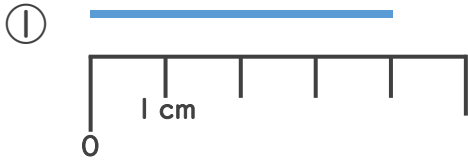
◎ センチメートル

12

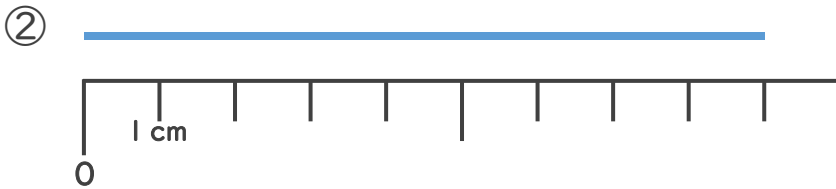
日にち： 月 日

名まえ _____

1 ^{せん}線の ^{なが}長さは ^{なん}何cmでしょう。




こた 答え ()



こた 答え ()

2 どちらのリボンが ^{なが}長いでしょう。



() さんのリボンの方が ^{なが}長い



長さのたんい 2

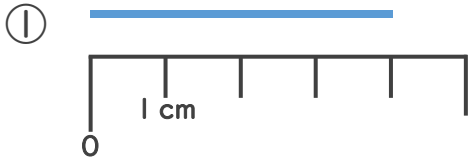
● センチメートル



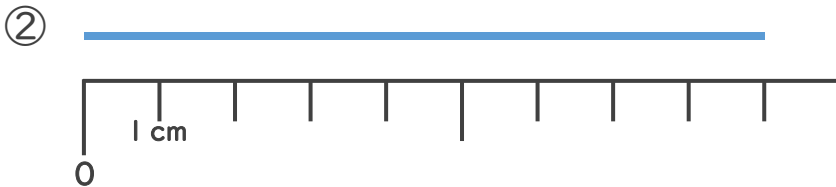
日にち： 月 日

名まえ _____

1 ^{せん}線の ^{なが}長さは ^{なん}何cmでしょう。



こた 答え (4 cm)



こた 答え (9 cm)

2 どちらの ^{なが}リボンが長いでしょう。



たくやさん



みきさん



(**たくや**) さんの ^{なが}リボンの方が長い

