



長さのたんい 5

● ミリメートル


12

日にち： 月 日

名まえ _____

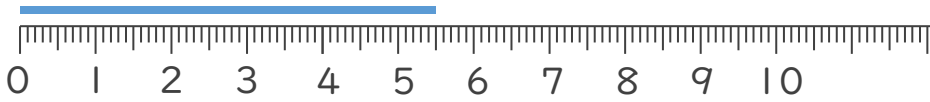
1 ^{せん}線の ^{なが}長さは ^{なん}何 ^{なん}cm何mm でしょう。

①



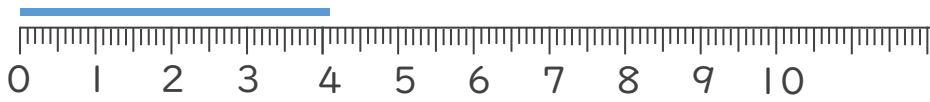
こた 答え (3 cm 7 mm)

②



こた 答え (5 cm 5 mm)

③



こた 答え (4 cm 1 mm)

2 ^{せん}線の ^{なが}長さをものさしではかりましょう。

①



こた 答え (5 cm)

②



こた 答え (6 cm)

