



かけ算 26

● リボンの2ばいの長さ



日にち： 月 日

名まえ _____

1 | ㊦のリボンの3ばいの長さを求めましょう。

① ㊦のリボンの3ばいの長さに色をぬりましょう。



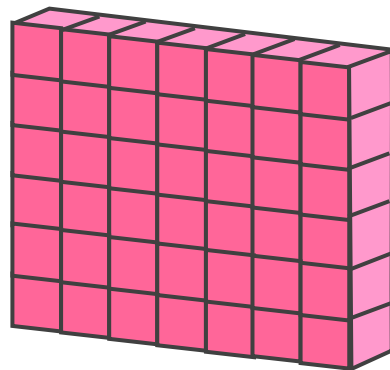
② ㊦のリボンの長さは、5cmです。

①でぬったところの長さは何cmですか。

しき：

答え： _____

2 下のつみきの数をもとめるかけ算のしきを2つ書きましょう。



しき： () ()



かけ算 26

● リボンの2ばいの長さ


12

日にち： 月 日

名まえ _____

1 | ㊦のリボンの3ばいの長さを求めましょう。

① ㊦のリボンの3ばいの長さに色をぬりましょう。



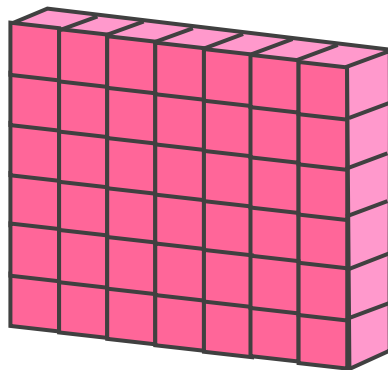
② ㊦のリボンの長さは、5cmです。

①でぬったところの長さは何cmですか。

$$\text{しき： } 5 \times 3 = 15$$

答え： 15cm

2 下のつみきの数をもとめるかけ算のしきを2つ書きましょう。



$$\text{しき： } (6 \times 7) \quad (7 \times 6)$$

