



# 分数7

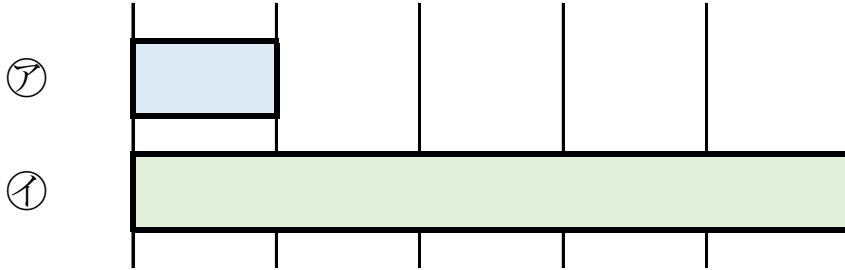
何倍？何分の一？



日にち： 月 日

名まえ \_\_\_\_\_

1 つぎの図を見てもんだいに答えましょう。



① 下の①のテープの長さは、⑦のテープの長さの何ばいですか。

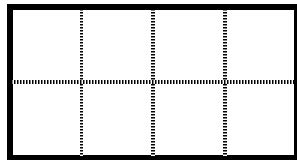
答え： \_\_\_\_\_

② 上の⑦のテープの長さは、①のテープの長さの何分の一ですか。


答え： \_\_\_\_\_

2 つぎの大きさに色をぬりましょう。

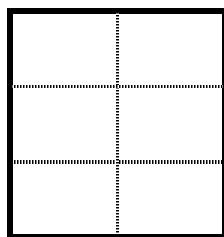
①  $\frac{1}{8}$



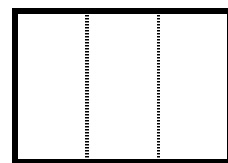
③  $\frac{1}{5}$



②  $\frac{1}{6}$



④  $\frac{1}{3}$





# 分数7

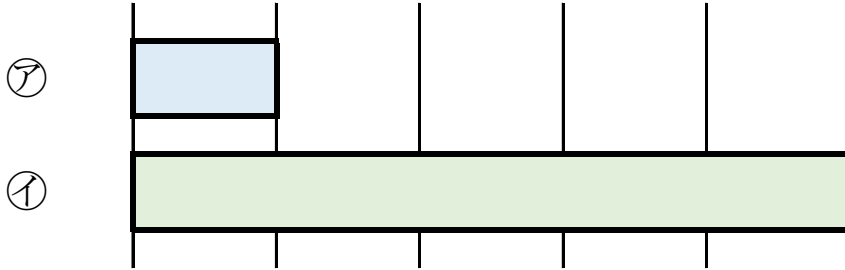
何倍？何分の一？



日にち： 月 日

名まえ \_\_\_\_\_

1 つぎの図を見てもんだいに答えましょう。



① 下の①のテープの長さは、⑦のテープの長さの何ばいですか。

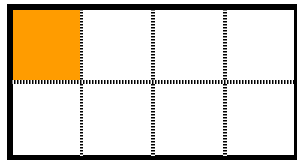
答え： 5 ばい

② 上の⑦のテープの長さは、①のテープの長さの何分の一ですか。


答え：  $\frac{1}{5}$

2 つぎの大きさに色をぬりましょう。

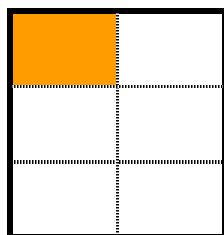
①  $\frac{1}{8}$



③  $\frac{1}{5}$



②  $\frac{1}{6}$



④  $\frac{1}{3}$

