



# 長さのたんい 8

◎ 直線の長さをはかる (mm)



日にち：        月        日

名まえ \_\_\_\_\_

1 線の<sup>せん</sup>長さ<sup>なが</sup>をものさしではかりましょう。

①



こた 答え (                    )

②



こた 答え (                    )

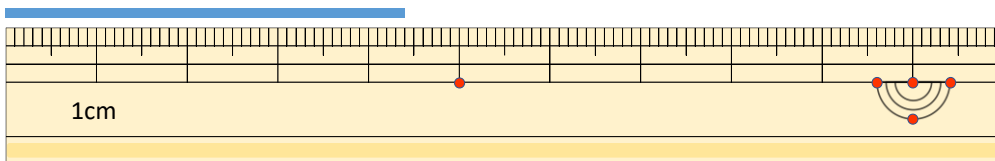
③



こた 答え (                    )

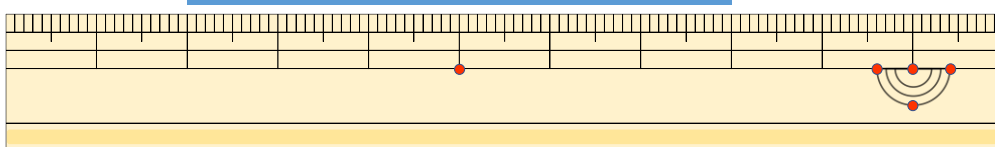
2 線の<sup>せん</sup>長さ<sup>なが</sup>はどれだけですか。

①



こた 答え (                    )

②



こた 答え (                    )





# 長さのたんい 8

◎ 直線の長さをはかる (mm)

12

日にち：            月            日

名まえ \_\_\_\_\_

1 <sup>せん</sup>線の <sup>なが</sup>長さをものさしではかりましょう。

①



こた 答え ( 3 cm 5 mm )

②



こた 答え ( 4 cm )

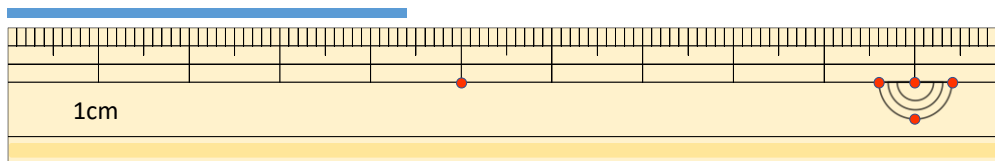
③



こた 答え ( 6 cm 2 mm )

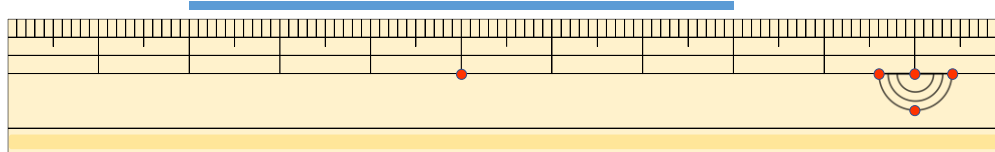
2 <sup>せん</sup>線の <sup>なが</sup>長さはどれだけですか。

①



こた 答え ( 4 cm 4 mm )

②



こた 答え ( 6 cm )

