

# 分数 2

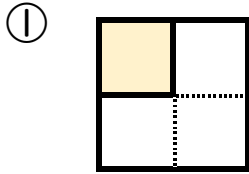
色をぬった部分は何分の一？



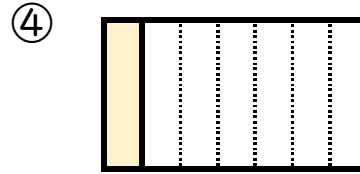
日にち：            月            日

名まえ \_\_\_\_\_

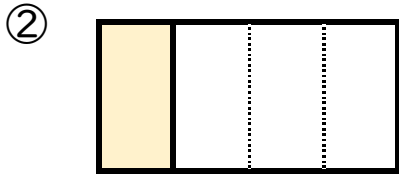
・色をぬったぶんはもとの大きさの何分の一ですか。



答え：  $\frac{1}{4}$



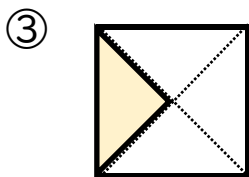
答え： \_\_\_\_\_



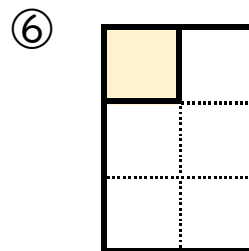
答え： \_\_\_\_\_




答え： \_\_\_\_\_



答え： \_\_\_\_\_



答え： \_\_\_\_\_



# 分数 2

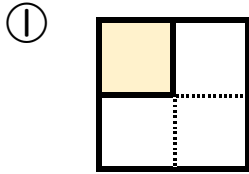
色をぬった部分は何分の一？



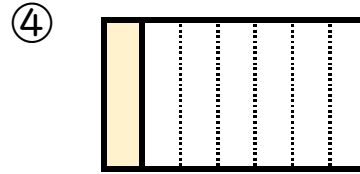
日にち：            月            日

名まえ \_\_\_\_\_

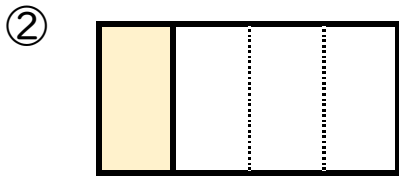
・色をぬったぶんはもとの大きさの何分の一ですか。




答え：  $\frac{1}{4}$



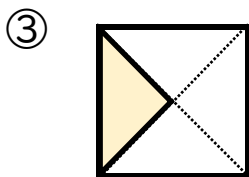
答え：  $\frac{1}{7}$



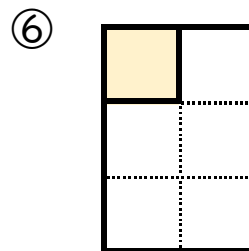
答え：  $\frac{1}{4}$



答え：  $\frac{1}{2}$



答え：  $\frac{1}{4}$



答え：  $\frac{1}{6}$