



はこの形 3

◎ 辺の長さの読み取り

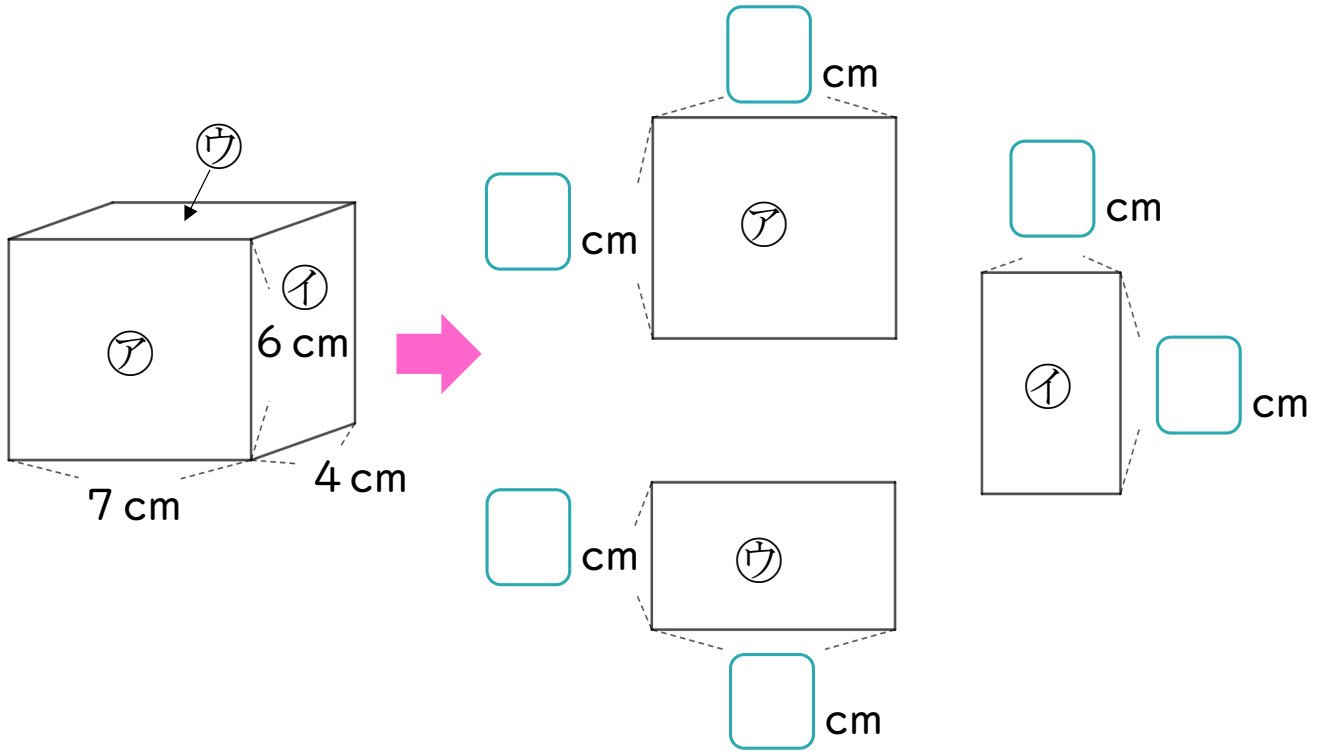
12

日にち： 月 日

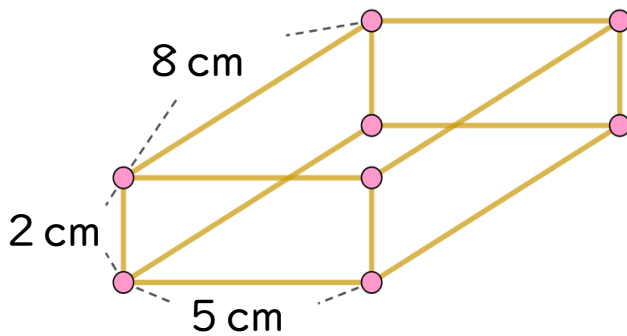
名まえ _____

1 つぎのはこの面をうつしとりました。

にあてはまる数をかきましょう。



2 ひごとねん土玉をつかって、下のようにはこの形を作ります。



① 5 cmのひごはぜんぶで何本ありますか。

答え：

② ねん土玉はぜんぶで何こありますか。

答え：



はこの形 3

◎ 辺の長さの読み取り

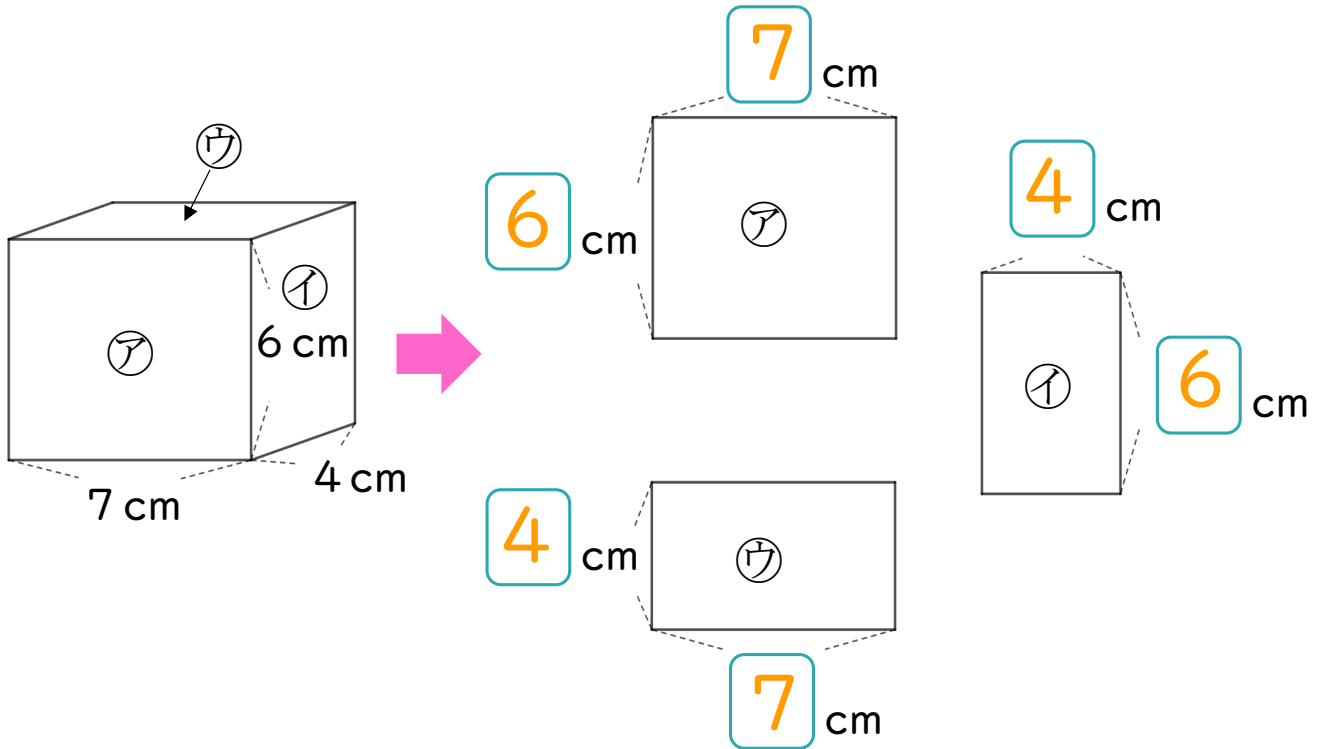
12

日にち： 月 日

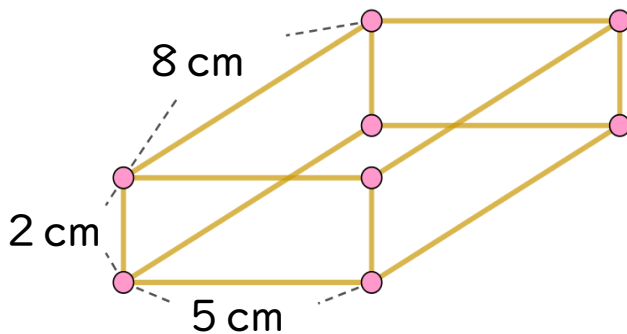
名まえ _____

1 つぎのはこの面をうつしとりました。

□ にあてはまる数をかきましょう。



2 ひごとねん土玉をつかって、下のようなのはこの形を作ります。



① 5 cm のひごはぜんぶで何本ありますか。

答え： 4 本

② ねん土玉はぜんぶで何こありますか。

答え： 8 こ