



長方形と正方形 5

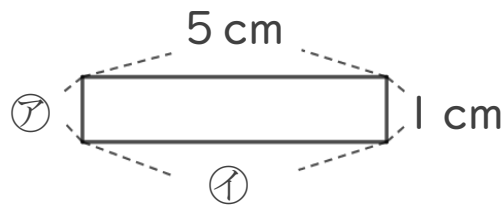
12

◎ 長方形のまわりの長さ

日にち： 月 日

名まえ _____

1 つぎの形は長方形です。次の問題に答えましょう。



① ア、イのへんの長さは、それぞれ何cmですか。

答え： ア・・・

イ・・・

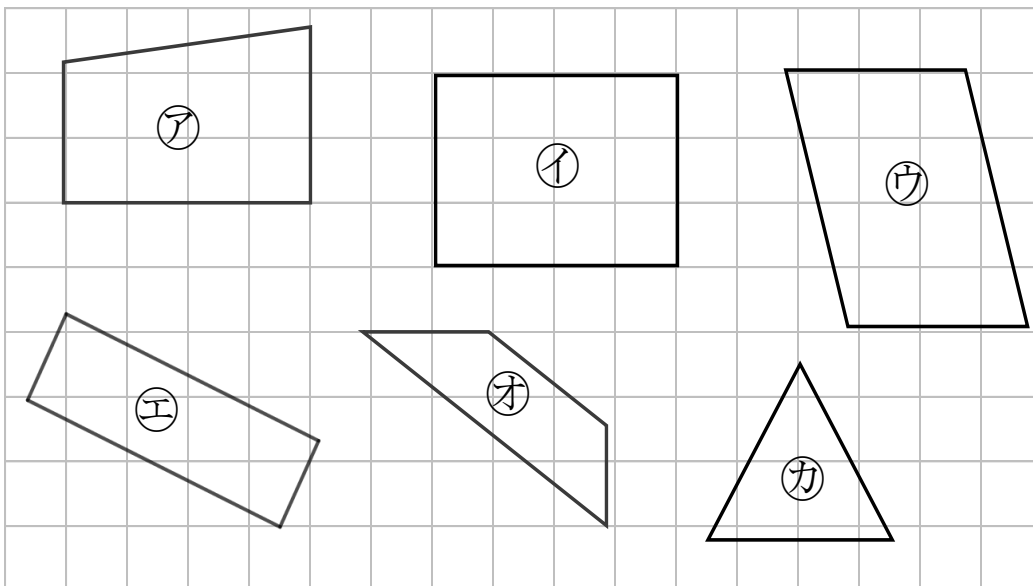
② この長方形のまわりの長さは何cmですか。

式：

答え： _____

2 長方形はどれですか。

三角じょうぎをつかって、ぜんぶ見つけましょう。



答え： _____



長方形と正方形 5

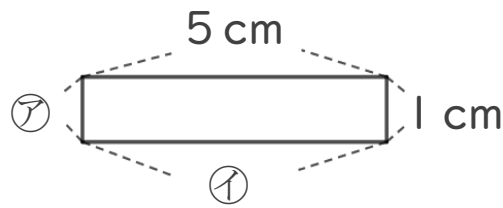
◎ 長方形のまわりの長さ

12

日にち： 月 日

名まえ _____

1 つぎの形は長方形です。次の問題に答えましょう。



① ア、イのへんの長さは、それぞれ何cmですか。

答え： ア・・・ 1 cm イ・・・ 5 cm

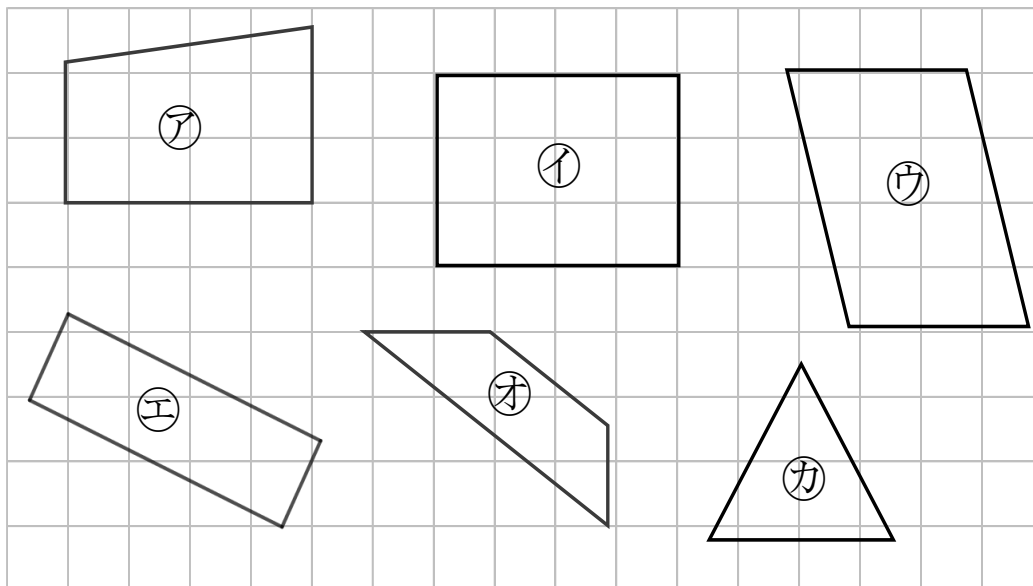
② この長方形のまわりの長さは何cmですか。

式： $1 + 1 + 5 + 5 = 12$

答え： 12cm

2 長方形はどれですか。

三角じょうぎをつかって、ぜんぶ見つけましょう。



答え： イ, オ