



図を使って
考えよう 4

いろいろなたし算とひき算

13

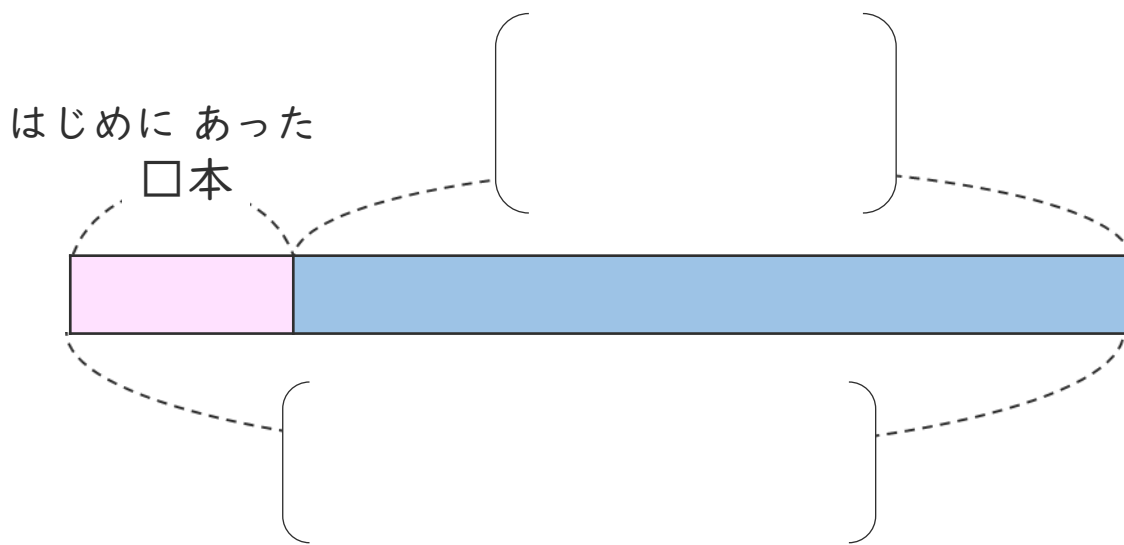
日にち： 月 日

名まえ _____

・ 花を 何本か もっていました。

友だちから 28本 もらったので ぜんぶで 36本 になりました。

① 下の図の [] にあうことばを書きましょう。




② 花ははじめに 何本 ありましたか。

しきと 答えを書きましょう。

しき []

答え []

<筆算スペース>





図を使って
考えよう 4

いろいろなたし算とひき算

13

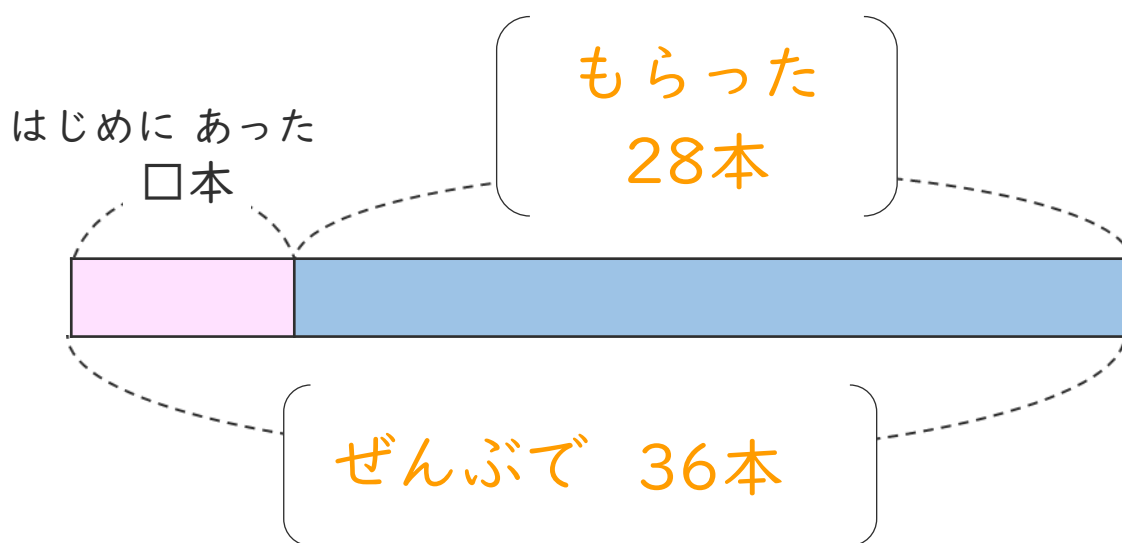
日にち： 月 日

名まえ _____

・ 花を 何本か もっていました。

友だちから 28本 もらったので ぜんぶで 36本 になりました。

① 下の図の [] にあうことばを書きましょう。



② 花ははじめに 何本 ありましたか。

しきと 答えを書きましょう。

しき [$36 - 28 = 8$]

答え [8本]

<筆算スペース>