



分数3


● もとの大きさの○分の一をさがす

13

日にち： 月 日

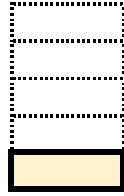
名まえ

1 もとの大きさの  $\frac{1}{5}$  はどれですか。

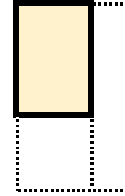


もとの大きさ


ア



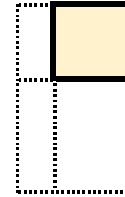
イ



ウ




エ



答え：


2 色をぬったぶぶんはもとの大きさの何分の一ですか。

①



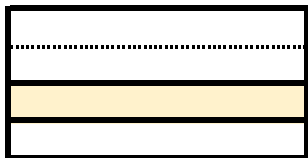
答え：

③



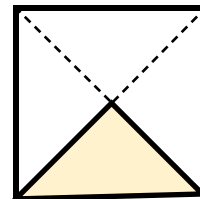
答え：

②



答え：

④



答え：





分数3


● もとの大きさの○分の一をさがす

13

日にち：            月            日

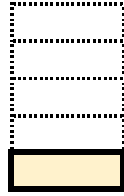
名まえ \_\_\_\_\_

1 もとの大きさの  $\frac{1}{5}$  はどれですか。

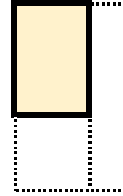


もとの大きさ


ア



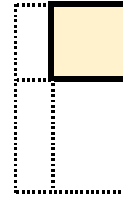
イ



ウ



エ

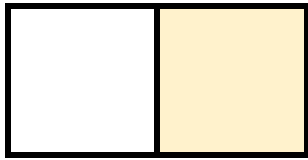


答え： \_\_\_\_\_



2 色をぬったぶぶんはもとの大きさの何分の一ですか。

①



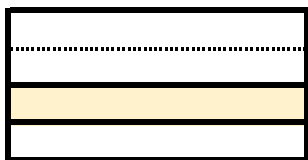
答え：  $\frac{1}{2}$

③



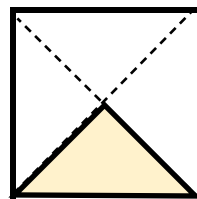
答え：  $\frac{1}{3}$

②



答え：  $\frac{1}{4}$

④



答え：  $\frac{1}{4}$

