

分数6

もとの大きさはいくつ分？




日にち： 月 日


名まえ

1 もとの長さの  $\frac{1}{7}$  をいくつあつめると、もとの長さになりますか。

もとの長さの  $\frac{1}{7}$




もとの長さ



答え：

2 もとの長さの  $\frac{1}{4}$  をいくつあつめると、もとの長さになりますか。

もとの長さの  $\frac{1}{4}$



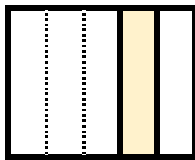
もとの長さ



答え：

3 色をぬったぶぶんはもとの大きさの何分の一ですか。

①



答え：

②



答え：



分数6

● もとの大きさはいくつ分？




日にち：            月            日


名まえ

1 もとの長さの  $\frac{1}{7}$  をいくつあつめると、もとの長さになりますか。

もとの長さの  $\frac{1}{7}$



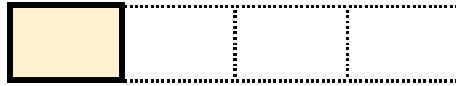
もとの長さ



答え： 7つ

2 もとの長さの  $\frac{1}{4}$  をいくつあつめると、もとの長さになりますか。

もとの長さの  $\frac{1}{4}$



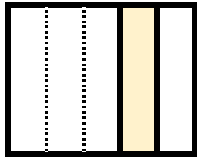
もとの長さ



答え： 4つ

3 色をぬったぶぶんはもとの大きさの何分の一ですか。

①



答え：  $\frac{1}{5}$

②



答え：  $\frac{1}{2}$