



長さのたんい 3

● ものさしの見かた (cm)

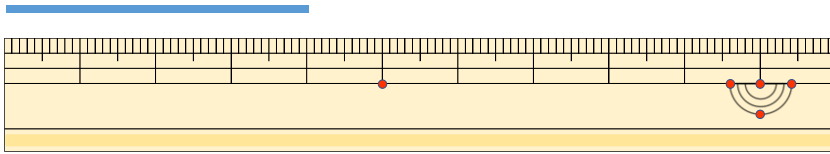
13

日にち： 月 日

名まえ _____

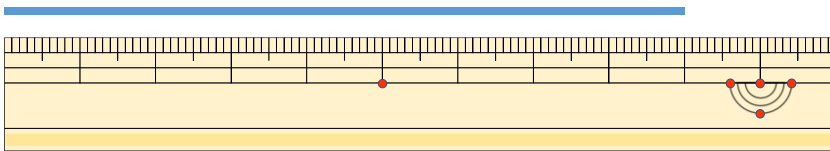
1 線の長さは何cmでしょう。

①



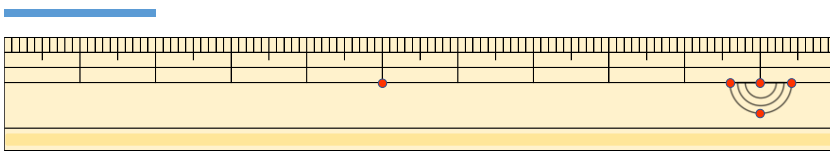
答え ()

②



答え ()


③



答え ()

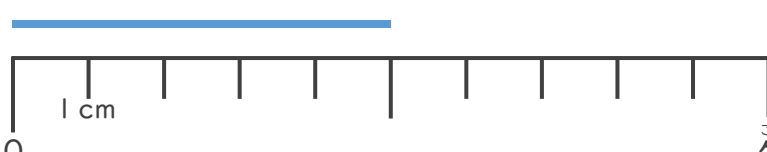
2 線の長さは何cmでしょう。

①



答え ()

②



答え ()





長さのたんい 3

● 物のさしの見かた (cm)

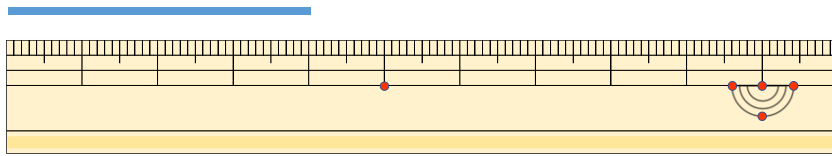


日にち： 月 日

名まえ _____

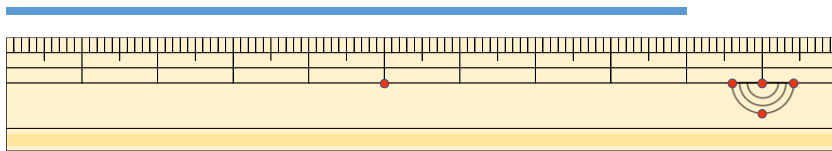
1 線の長さは何cmでしょう。

①



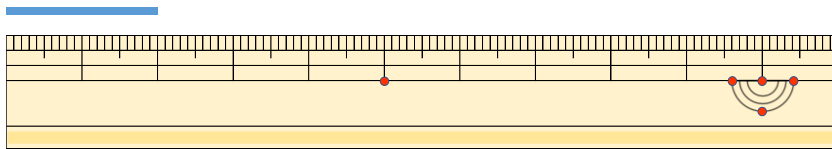
こた 答え (4 cm)

②



こた 答え (9 cm)

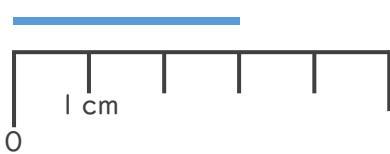
③



こた 答え (2 cm)

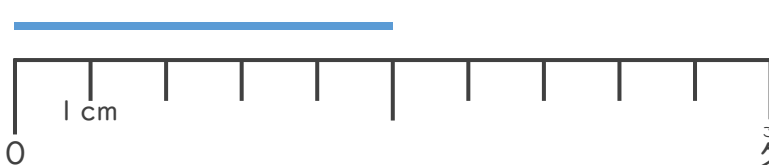
2 線の長さは何cmでしょう。

①



こた 答え (3 cm)

②



こた 答え (5 cm)

