



長さのたんい 6

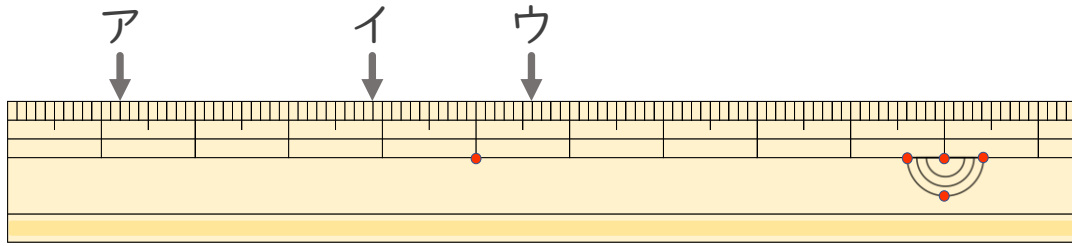
● 物のさしの見かた (mm)

13

日にち： 月 日

名まえ _____

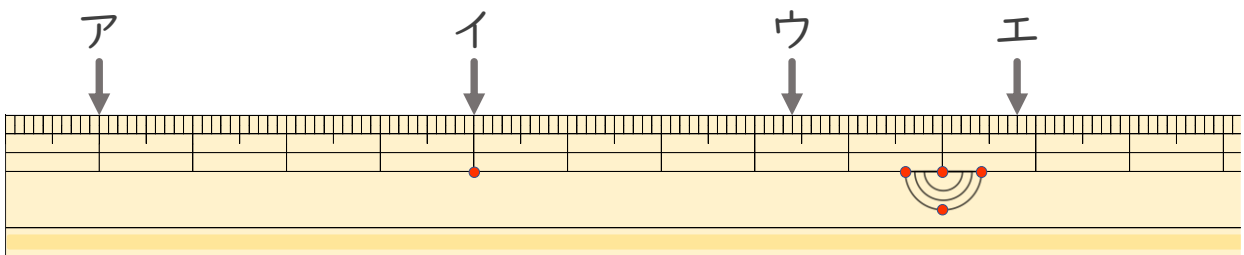
1 ^{ひだり} 左はしから ア、イ、ウ、までの ^{なが} 長さはそれぞれどれだけで
すか。



ア () イ ()

ウ ()

2 ^{ひだり} 左はしから ア、イ、ウ、エまでの ^{なが} 長さはそれぞれどれだけ
ですか。



ア () イ ()

ウ () エ ()



長さのたんい 6

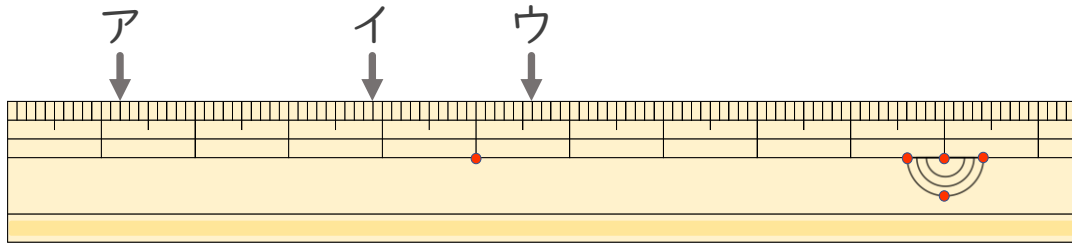
● 物のさしの見かた (mm)

13

日にち： 月 日

名まえ _____

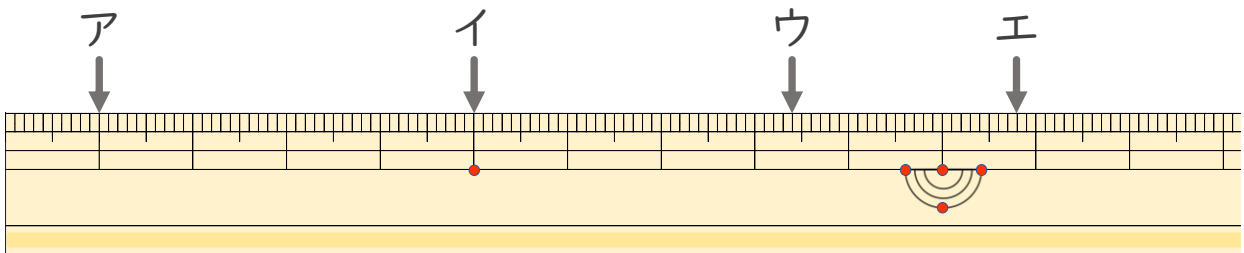
1 ^{ひだり} 左はしから ア、イ、ウ、までの ^{なが} 長さは それぞれ どれだけで
すか。



ア (1 cm 2 mm) イ (3 cm 9 mm)

ウ (5 cm 6 mm)

2 ^{ひだり} 左はしから ア、イ、ウ、エまでの ^{なが} 長さは それぞれ どれだけで
ですか。



ア (1 cm) イ (5 cm)

ウ (8 cm 4 mm) エ (10 cm 8 mm)

