



# はこの形 4

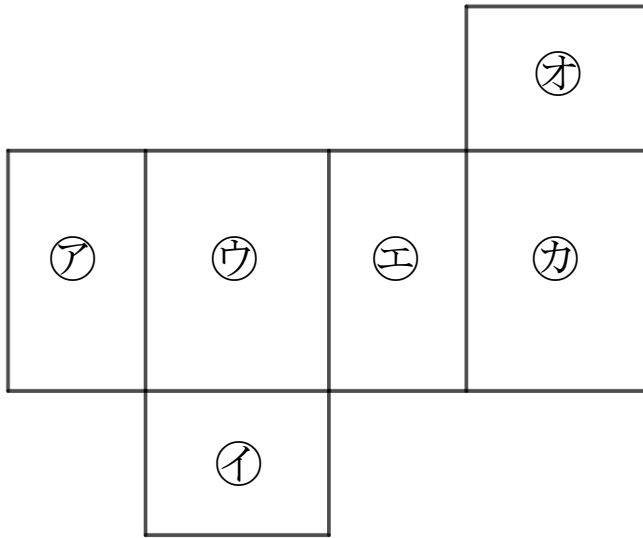
サイコロの向かい合う面



日にち： 月 日

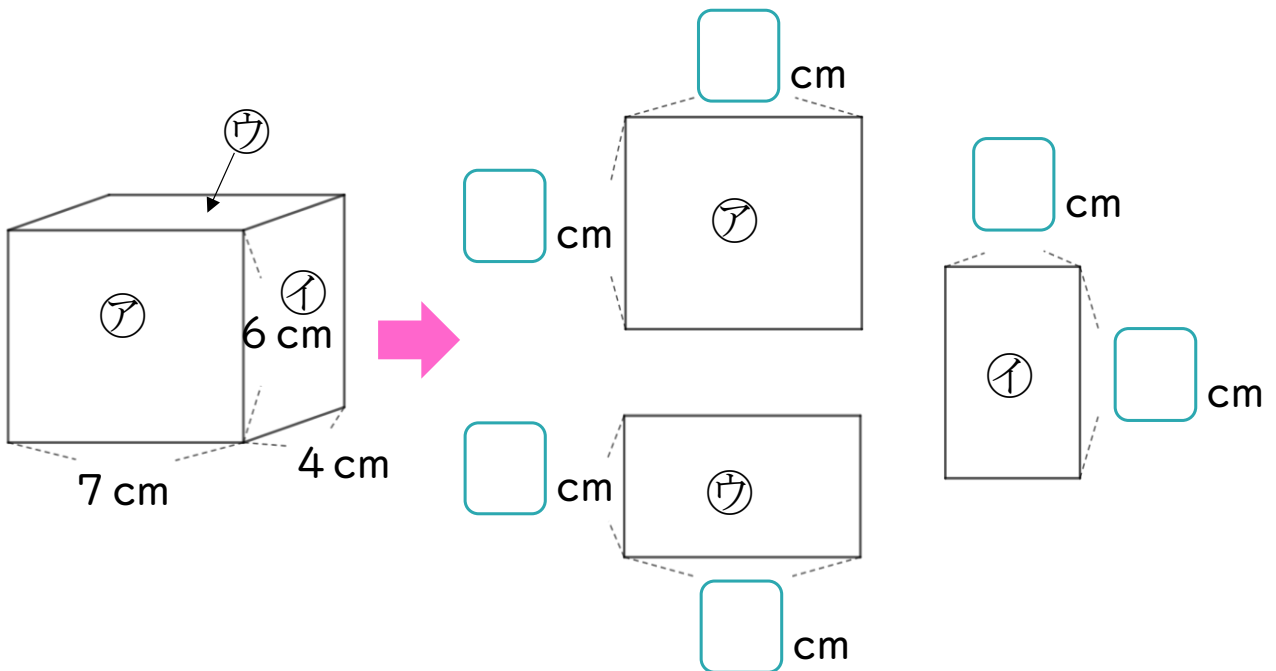
名まえ \_\_\_\_\_

- 1 つぎの図ははこの形を切りひらいたものです。  
 組み立てたときにおかい合う面を3組さがして、  
 ㉠～㉣で答えましょう。



答え：                    と                    ,                    と                    ,                    と

- 2 つぎのはこの面をうつしとりました。  
 にあてはまる数をかきましょう。





# はこの形 4

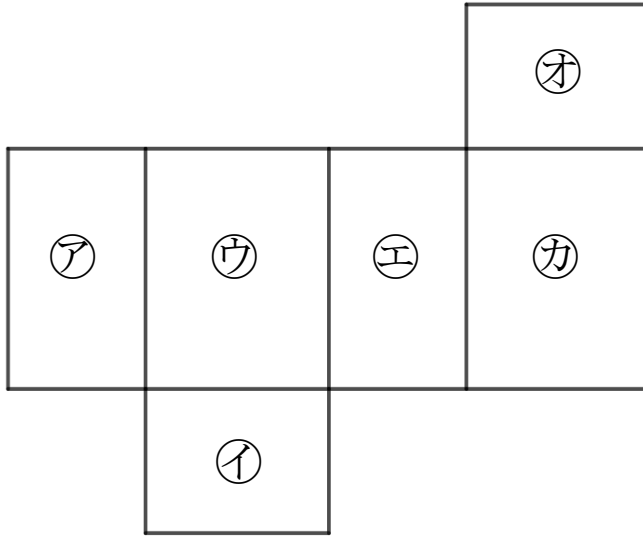
サイコロの向かい合う面

13

日にち： 月 日

名まえ \_\_\_\_\_

- 1 つぎの図ははこの形を切りひらいたものです。  
 組み立てたときにおかい合う面を3組さがして、  
 ㉠～㉣で答えましょう。



答え： ㉠ と ㉢ , ㉤ と ㉣ , ㉡ と ㉣

- 2 つぎのはこの面をうつしとりました。  
 にあてはまる数をかきましょう。

