



# 長さのたんい 2

● センチメートル

13

日にち：            月            日

名まえ \_\_\_\_\_

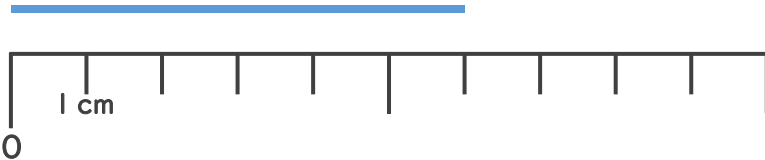
1 <sup>せん</sup>線の <sup>なが</sup>長さは <sup>なん</sup>何cmでしょう。

①



こた 答え (                            )

②



こた 答え (                            )

2 どちらのリボンが <sup>なが</sup>長いでしょう。



たくやさん



みきさん



(                            ) さんのリボンの方が <sup>なが</sup>長い





# 長さのたんい 2

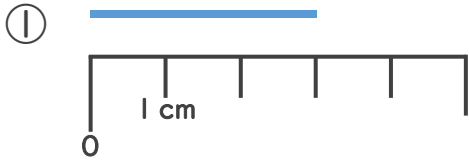
● センチメートル

13

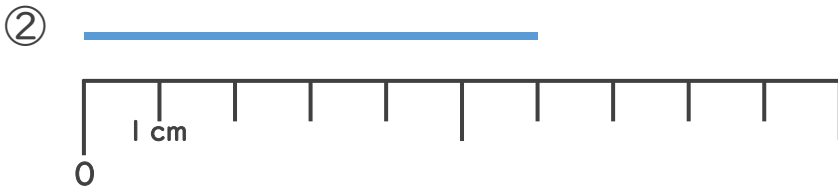
日にち：            月            日

名まえ \_\_\_\_\_

1 <sup>せん</sup>線の <sup>なが</sup>長さは <sup>なん</sup>何cmでしょう。



こた 答え (    3 cm    )




こた 答え (    6 cm    )

2 どちらのリボンが <sup>なが</sup>長いでしょう。



たくやさん



みきさん



(    **たくや**    ) さんのリボンの方が <sup>なが</sup>長い

