





# 長さのたんい 5

● ミリメートル

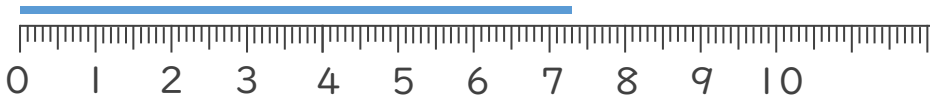
13

日にち：            月            日

名まえ \_\_\_\_\_


1 <sup>せん</sup>線の <sup>なが</sup>長さは <sup>なん</sup>何 <sup>なん</sup>cm何mm でしょう。

①



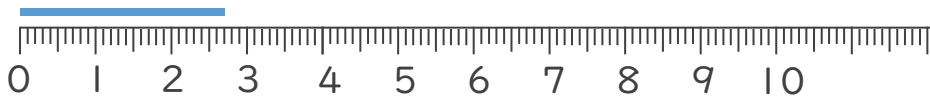
こた 答え ( 7 cm 3 mm )

②



こた 答え ( 4 cm 4 mm )

③



こた 答え ( 2 cm 7 mm )

2 <sup>せん</sup>線の <sup>なが</sup>長さをものさしではかりましょう。

①



こた 答え ( 8 cm )

②



こた 答え ( 4 cm )

