





# 長さのたんい 5

● ミリメートル

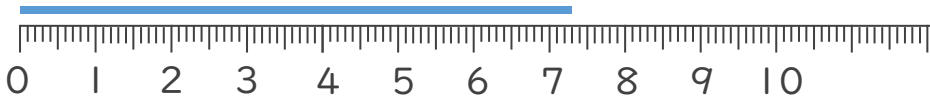
13

日にち：            月            日

名まえ \_\_\_\_\_


1 線の長さは何cm何mmでしょう。

①




こた 答え ( 7 cm 3 mm )

②



こた 答え ( 4 cm 4 mm )

③



こた 答え ( 2 cm 7 mm )

2 線の長さをものさしではかりましょう。

①



こた 答え ( 8 cm )

②



こた 答え ( 4 cm )

