



# 水のかさ4

リットルとデシリットル

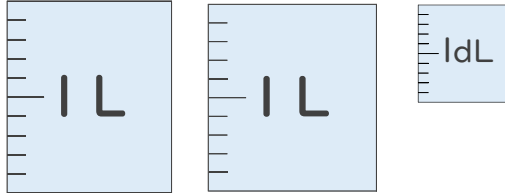


日にち： 月 日

名まえ

1 水のかさはどれだけですか。  
それぞれのたんいであらわしましょう。

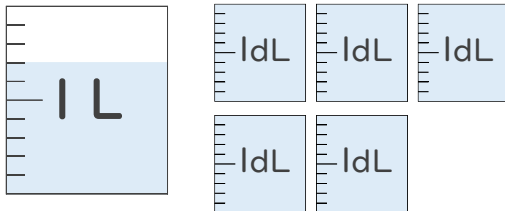
①



( 1 L 1 dL )

( 2 L 1 dL )

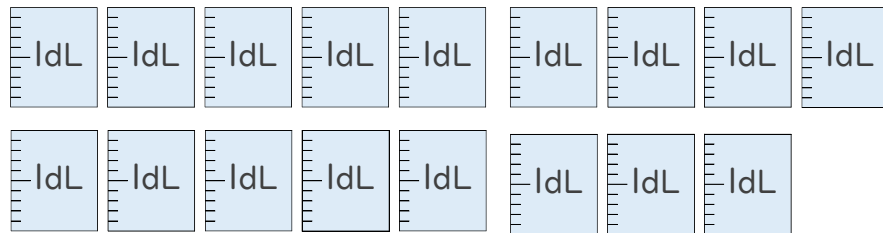
②



( 1 L 5 dL )

( 1 L 10 dL )

2 つぎのペットボトルに入る水のかさをしらべましょう。



① ペットボトルに入る水のかさは、何dLですか。

答え：

② ペットボトルに入る水のかさは、何L何dLですか。

答え：





# 水のかさ4

リットルとデシリットル

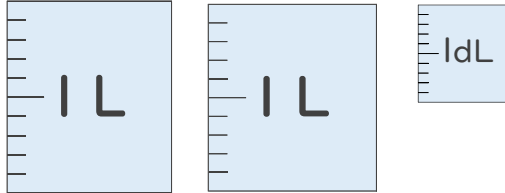
13

日にち： 月 日

名まえ

1 水のかさはどれだけですか。  
それぞれのたんいであらわしましょう。

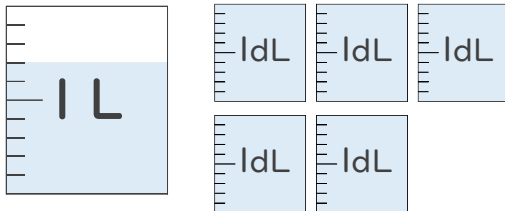
①



( 2 L 1 dL )

( 21 dL )

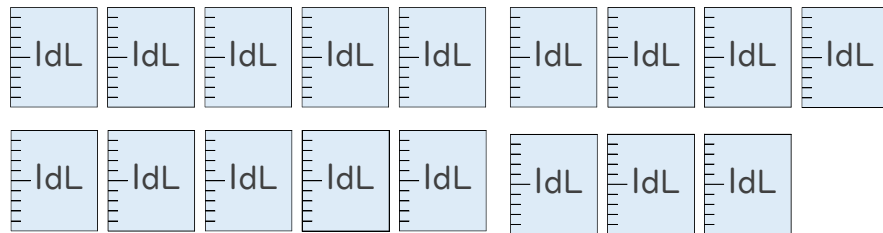
②



( 1 L 2 dL )

( 12 dL )

2 つぎのペットボトルに入る水のかさをしらべましょう。



① ペットボトルに入る水のかさは、何dLですか。

答え： 17dL

② ペットボトルに入る水のかさは、何L何dLですか。

答え： 1 L 7 dL

