



かけ算 26

● リボンの2ばいの長さ

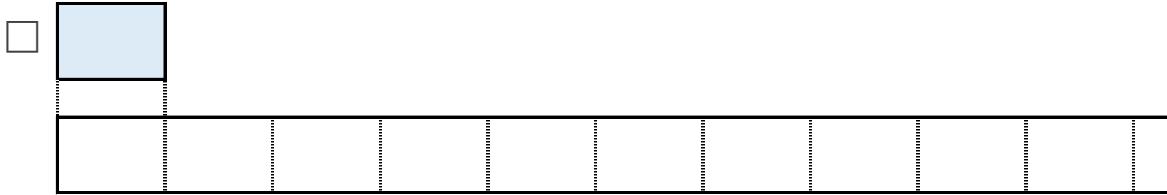


日にち： 月 日

名まえ _____

1 ㊦のリボンの8ばいの長さを求めましょう。

① ㊦のリボンの8ばいの長さに色をぬりましょう。




② ㊦のリボンの長さは、4cmです。

①でぬったところの長さは何cmですか。

しき：

答え： _____

2 下のつみきの数をもとめるかけ算のしきを2つ書きましょう。



しき： () ()





かけ算 26

● リボンの2ばいの長さ

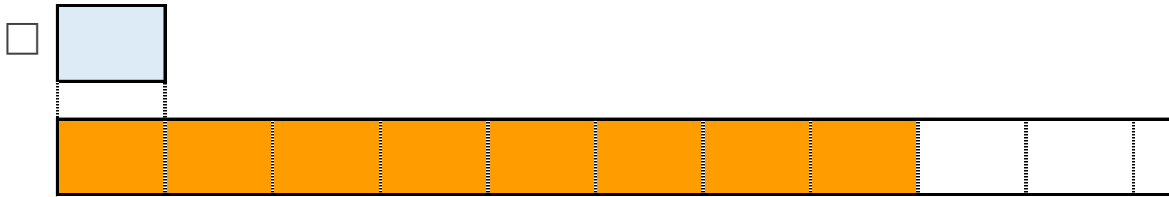
13

日にち： 月 日

名まえ _____

1 | ㊦のリボンの8ばいの長さをもとめましょう。

① ㊦のリボンの8ばいの長さに色をぬりましょう。




② ㊦のリボンの長さは、4cmです。

①でぬったところの長さは何cmですか。

$$\text{しき： } 4 \times 8 = 32$$

答え： 32cm

2 下のつみきの数をもとめるかけ算のしきを2つ書きましょう。



$$\text{しき： } (4 \times 3) \quad (3 \times 4)$$

