



長方形と正方形 2

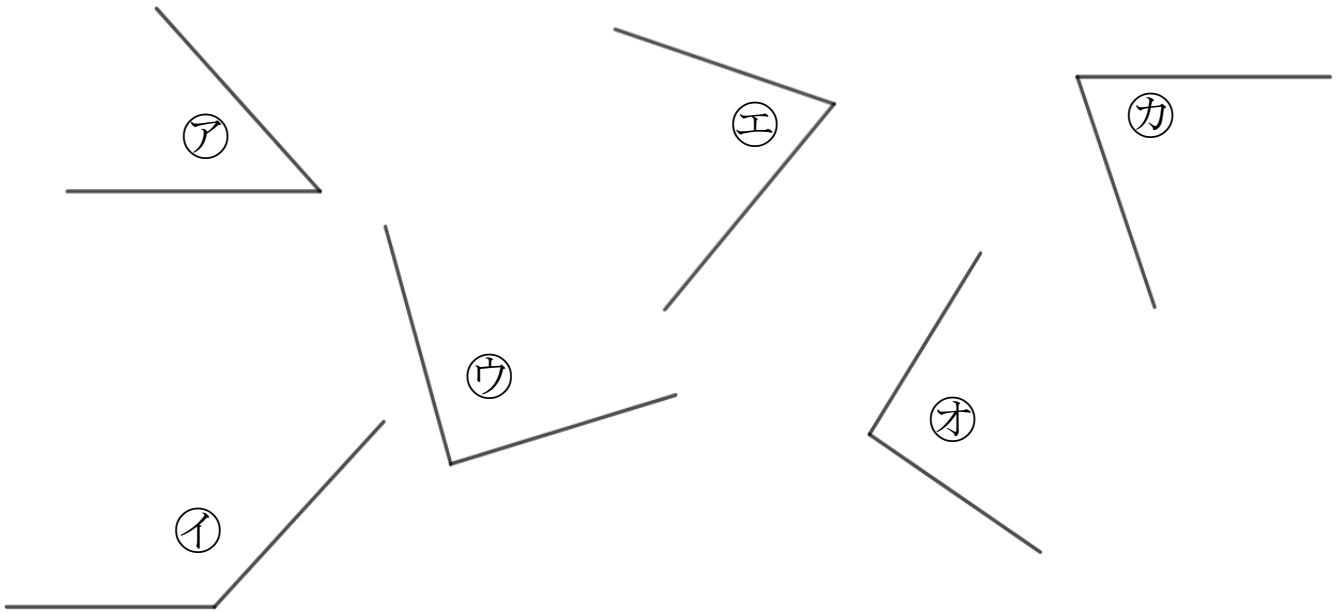
◎ 三角じょうぎの
直角の角はどれ？



日にち： 月 日

名まえ _____

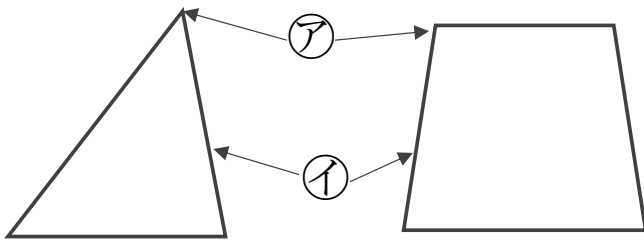
1 直角はどれですか。三角じょうぎをつかってぜんぶ見つけましょう。



答え： _____

2 つぎのもんだいに答えましょう。

① つぎの ア、イ の名前を答えましょう。



答え： ア...

イ...

② 三角形、四角形には、ちょう点やへんはそれぞれいくつありますか。

答え： 三角形... ちょう点 3つ、へん 3本

四角形... ちょう点 4つ、へん 4本



長方形と正方形 2

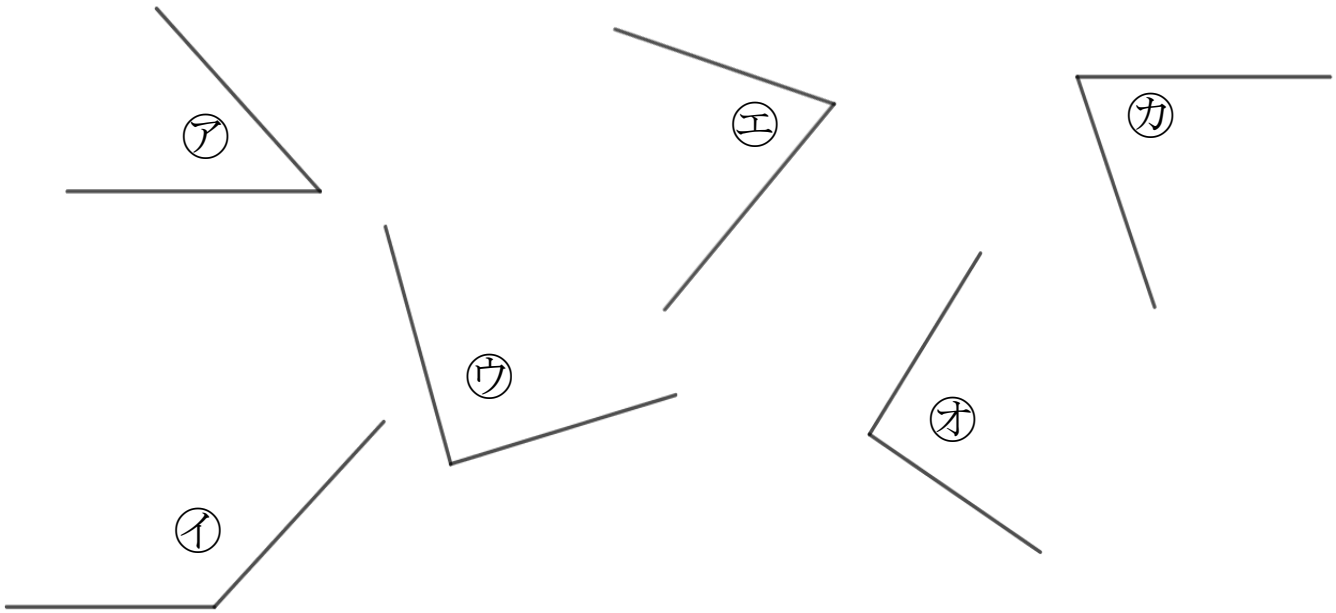
◎ 三角じょうぎの
直角の角はどれ？

13

日にち： 月 日

名まえ _____

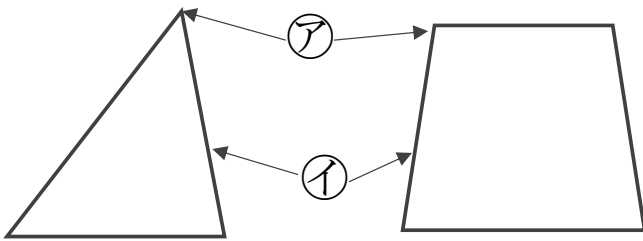
1 直角はどれですか。三角じょうぎをつかってぜんぶ見つけましょう。



答え： **ウ, オ**

2 つぎのもんだいに答えましょう。

① つぎの**ア**、**イ**の名前を答えましょう。



答え： **ア**… **ちょう点**

イ… **へん**

② 三角形、四角形には、ちょう点やへんはそれぞれいくつありますか。

答え： 三角形… ちょう点 **3**つ、へん **3**本

四角形… ちょう点 **4**つ、へん **4**本