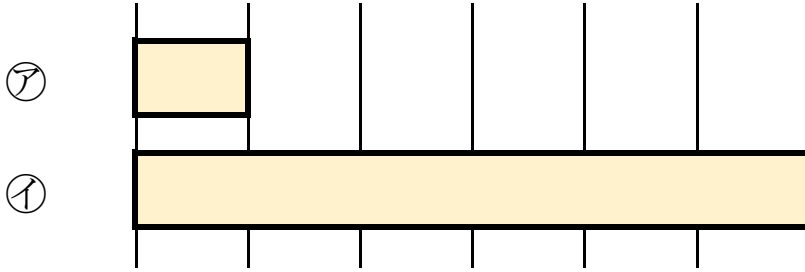




1 つぎの図を見てもんだいに答えましょう。



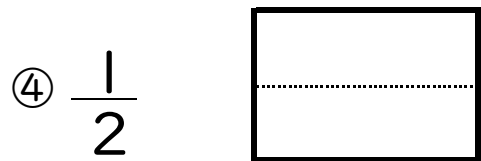
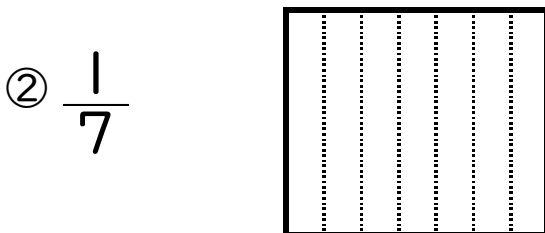
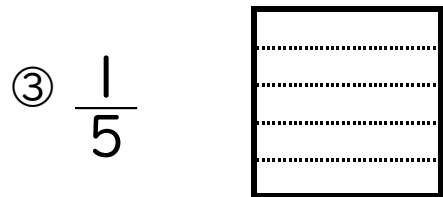
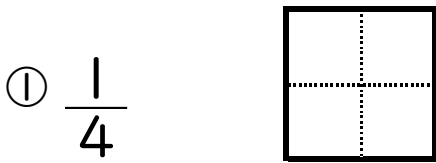
① 下の①のテープの長さは、⑦のテープの長さの何ばいですか。

答え：

② 上の⑦のテープの長さは、①のテープの長さの何分の一ですか。

答え：

2 つぎの大きさに色をぬりましょう。





# 分数7

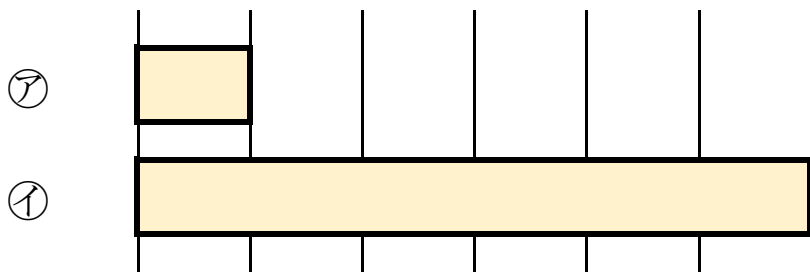
何倍？何分のー？



日にち：            月            日

名まえ

1 つぎの図を見てもんだいに答えましょう。



① 下の①のテープの長さは、⑦のテープの長さの何ばいですか。

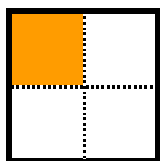
答え： 6 ばい

② 上の⑦のテープの長さは、①のテープの長さの何分のーですか。


答え：  $\frac{1}{6}$

2 つぎの大きさに色をぬりましょう。


①  $\frac{1}{4}$



③  $\frac{1}{5}$



②  $\frac{1}{7}$



④  $\frac{1}{2}$

